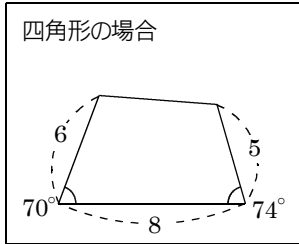


問1 A方式で次の図の2倍の拡大図と $\frac{1}{2}$ の縮図を書け。

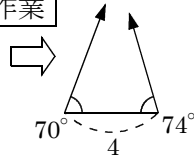
自分では
かなさいよ

辺の長さや角の大きさが分からないときは、自分ではかって求めること！

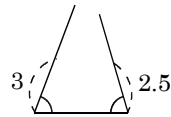


縮図の書き方

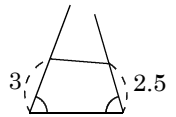
第1作業



第2作業

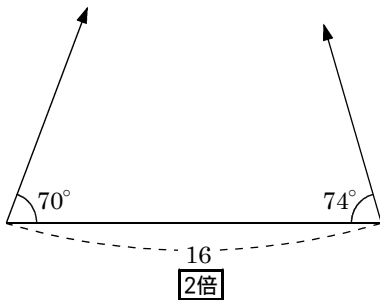


第3作業

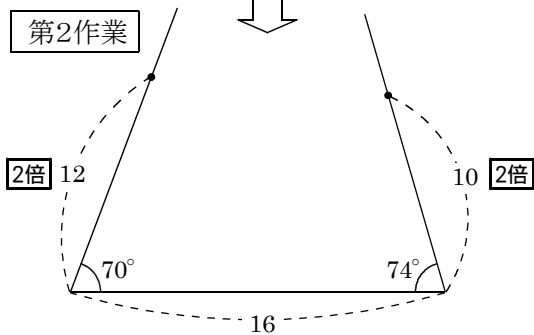


拡大図の書き方

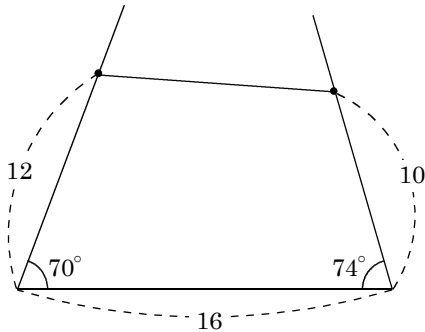
第1作業



第2作業

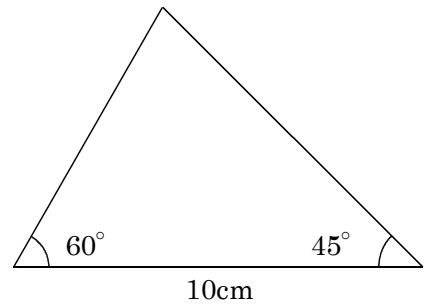


第3作業

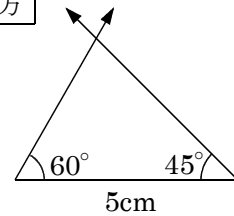


問2

次の図の拡大図と縮図を点Bを中心にして書け



縮図の書き方



拡大図の書き方

