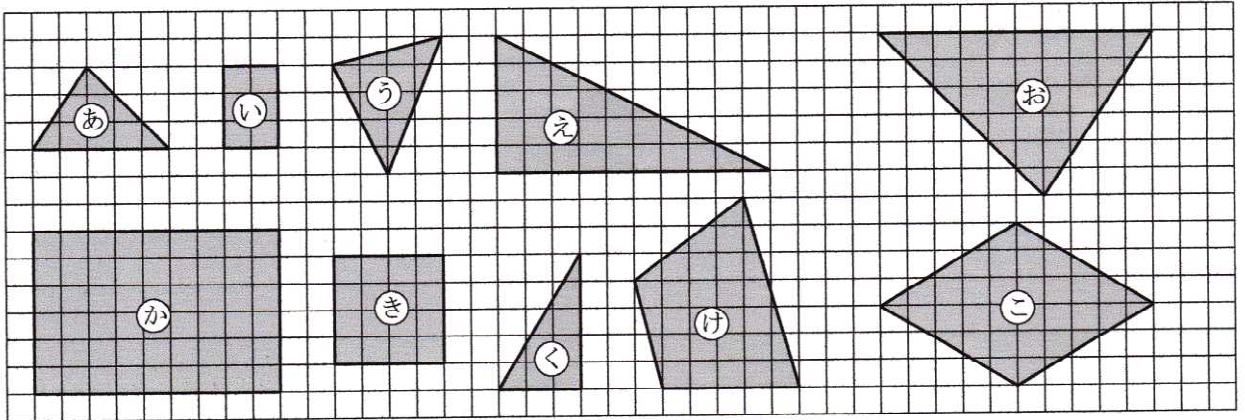


名 前	解 説	小 6	拡大図と縮図			%	mistake	—
	NO28 NO29		拡大図と縮図の見分け方-①			正		
						問		

問1 下の図について記号で答えなさい。



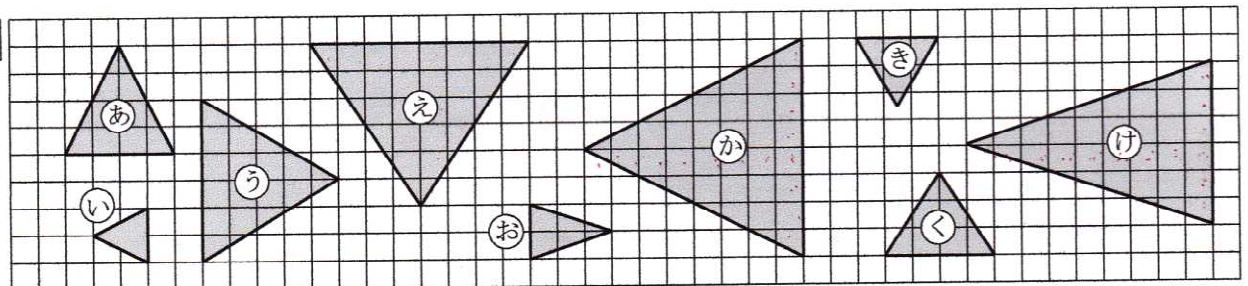
① あ の三角形を2倍に拡大したものはどれか。

か

② か の四角形を  $\frac{1}{3}$  に縮小したものはどれか。

い

問2



① あ の拡大図はどれか。また、それは何倍の拡大図か。

か 2倍

② あ の縮図はどれか。また、それは何分の一の縮図か。

い  $\frac{1}{2}$

③ い の拡大図はどれか。また、それは何倍の拡大図か。

あで 2倍 かで 4倍

④ う の縮図はどれか。また、それは何分の一の縮図か。

き  $\frac{1}{2}$

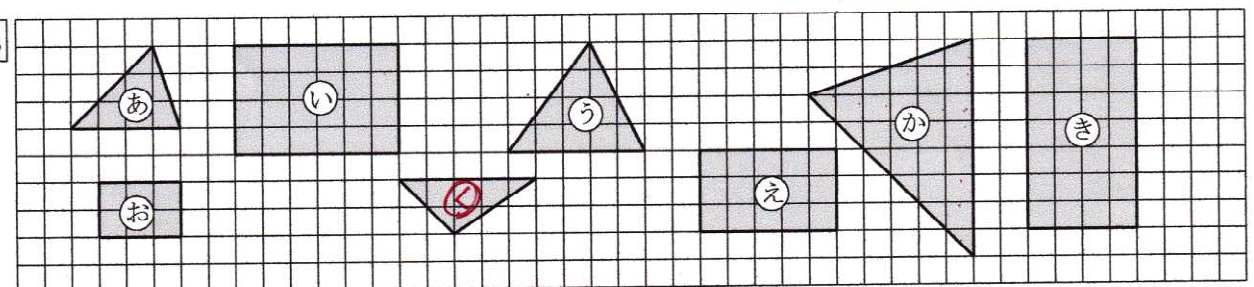
⑤ く の拡大図はどれか。また、それは何倍の拡大図か。

え 2倍

⑥ け の縮図はどれか。また、それは何分の一の縮図か。

お  $\frac{1}{3}$

問3



① あ の拡大図はどれか。また、それは何倍の拡大図か。

か 2倍

② い の縮図はどれか。また、それは何分の一の縮図か。

お  $\frac{1}{2}$