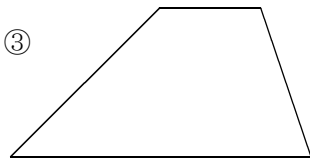
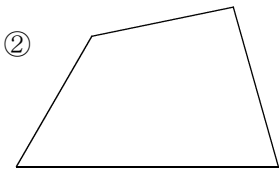
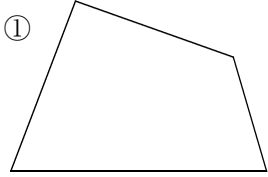


名 前		小 6	拡大図と縮図の書き方-A方式	①	②	③	%	mistake	12	
	NO23							正		
								問		

問題1 次の四角形の辺の長さや角の大きさをはかって  
2倍の拡大図と $\frac{1}{2}$ の縮図を書け。



問題2 次の四角形の辺の長さや角の大きさをはかって  
2倍の拡大図と $\frac{1}{2}$ の縮図を書け。

