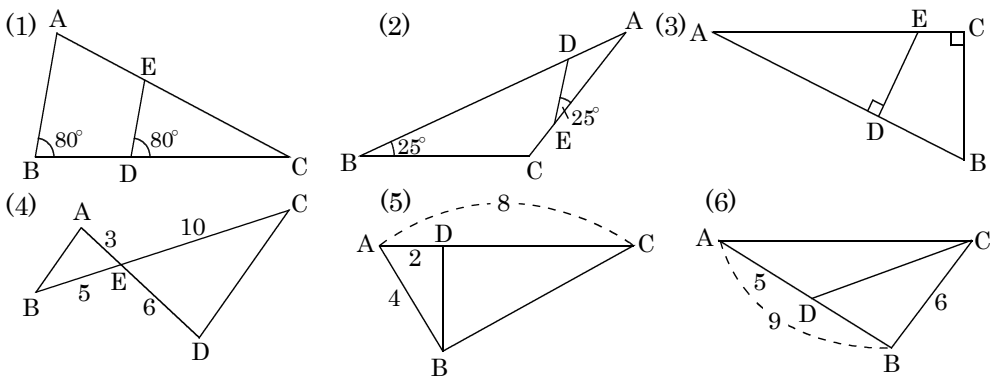


相似条件 (ア) 3組の辺の比がすべて等しい (イ) 2組の辺の比とその間の角がそれぞれ等しい
(ウ) 2組の角がそれぞれ比が等しい

問題1 相似な三角形を選び記号のを使って表し相似条件を上から選べ。

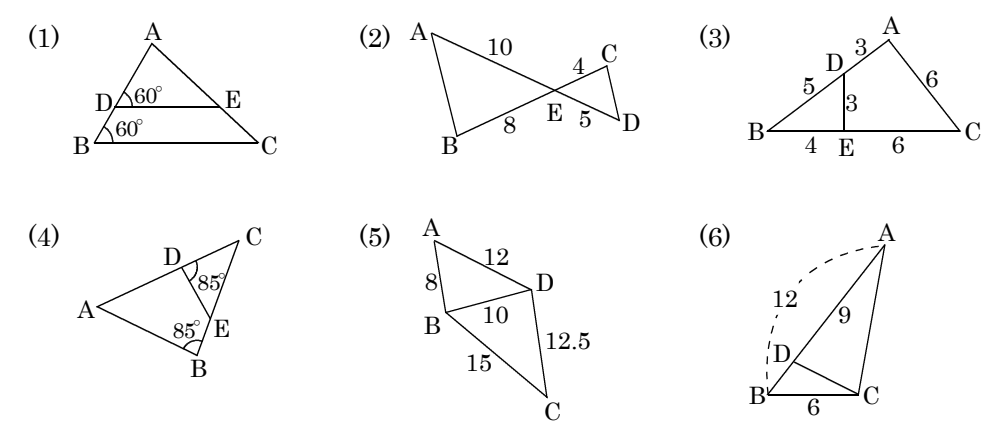


①	
②	
③	
④	
⑤	
⑥	

相似条件

①	②	③
④	⑤	⑥

問題2 相似な三角形を選び記号のを使って表し相似条件を上から選べ。

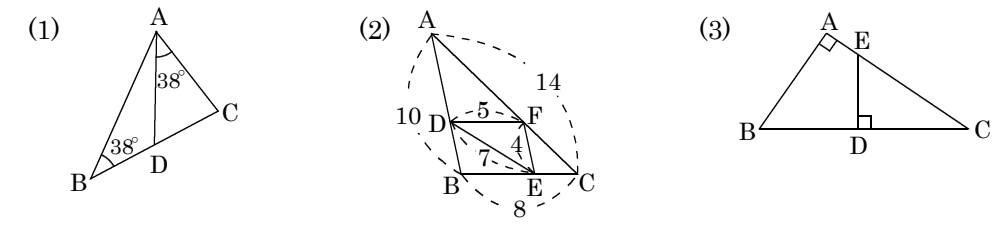


①	
②	
③	
④	
⑤	
⑥	

相似条件

①	②	③
④	⑤	⑥

問題3 相似な三角形を選び記号のを使って表し相似条件を上から選べ。

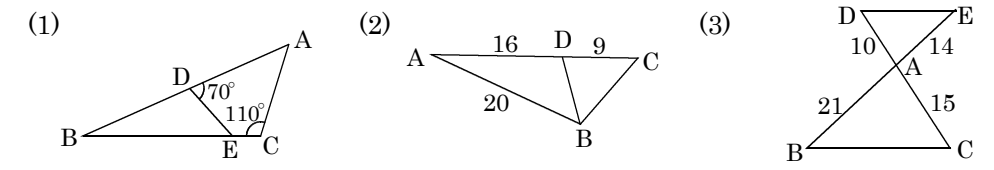


①	
②	
③	

相似条件

①	②	③
---	---	---

問題4 相似な三角形を選び記号のを使って表し相似条件を上から選べ。



①	
②	
③	

相似条件

①	②	③
---	---	---