

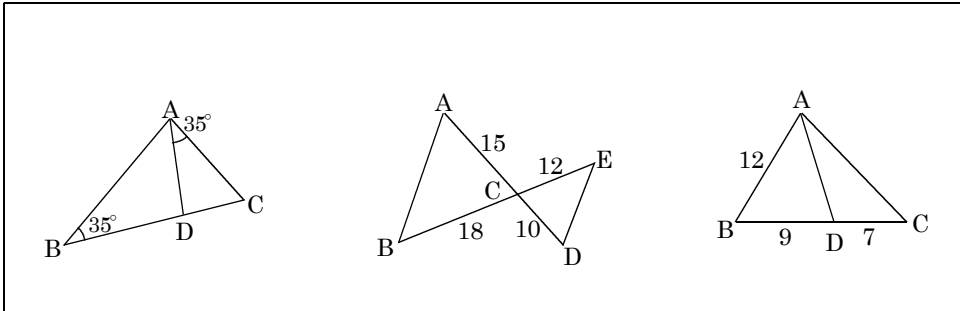
/	解説
/	<b>NO4</b>

**相似な図形NO4**  
 中3 **見抜けにくい相似な三角形①**

NAME	mistake

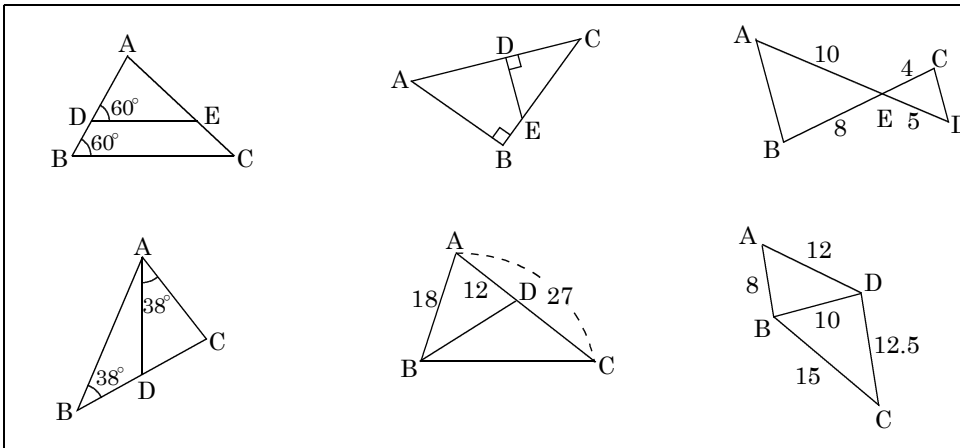
**相似条件** (ア) 3組の辺の比がすべて等しい (イ) 2組の辺の比とその間の角がそれぞれ等しい  
 (ウ) 2組の角がそれぞれ比が等しい

**問題1** 次の図で相似な三角形を選び記号のを使って表せ。また相似条件を上から選んで記号で答えよ。



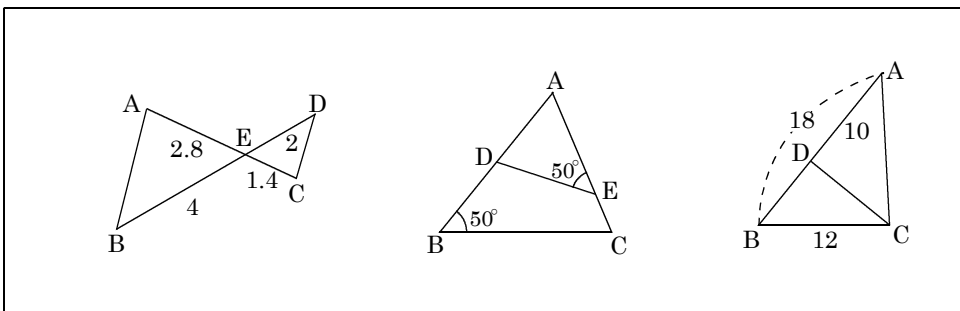
①		
②		
③		
<b>相似条件</b>		
①	②	③

**問題2** 次の図で相似な三角形を選び記号のを使って表せ。また相似条件を上から選んで記号で答えよ。



①		
②		
③		
④		
⑤		
⑥		
<b>相似条件</b>		
①	②	③
④	⑤	⑥

**問題3** 次の図で相似な三角形を選び記号のを使って表せ。また相似条件を上から選んで記号で答えよ。



①		
②		
③		
<b>相似条件</b>		
①	②	③