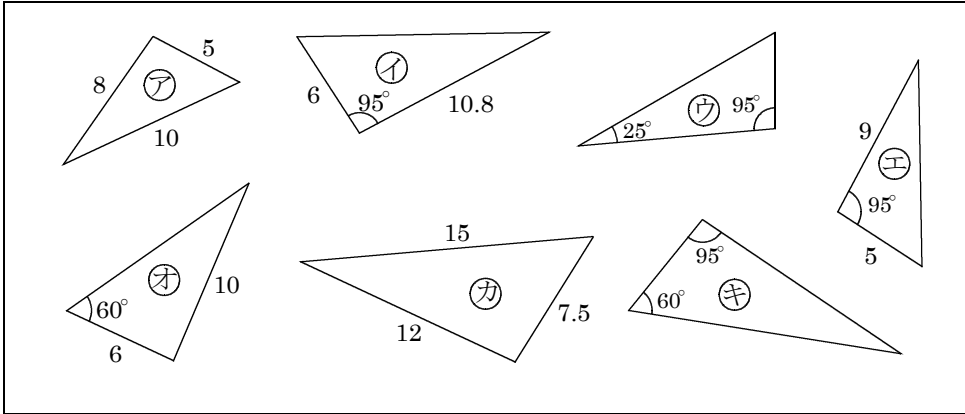


/	解説
/	<b>NO2</b>

相似な図形NO2
中 3 三角形の相似条件③

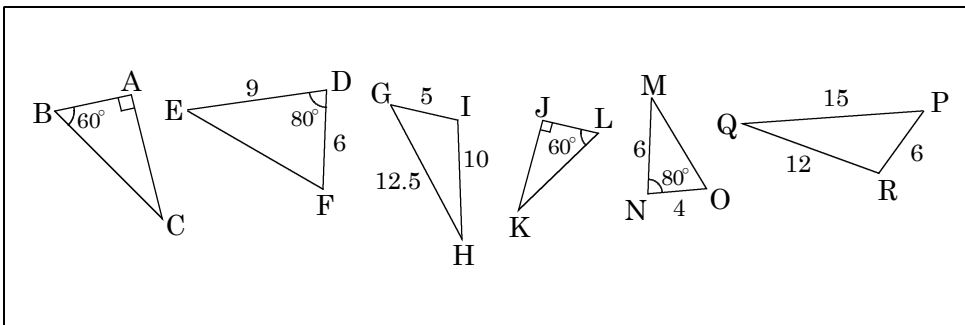
NAME	mistake

**問題1** 相似な三角形を3組選びなさい。また相似条件と相似比を書け。  
相似比が求まらないものは③に書け。



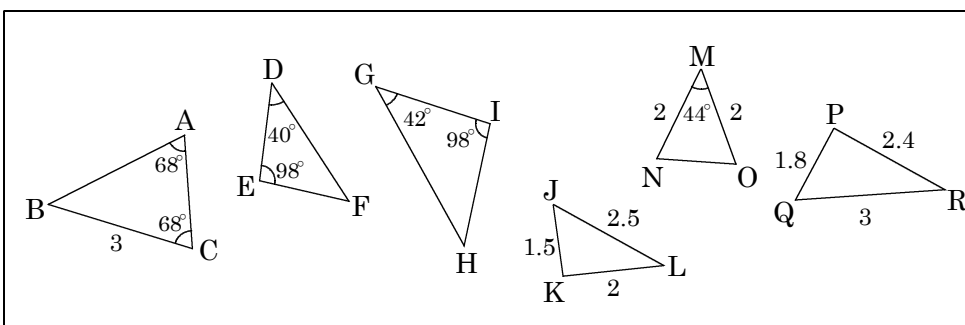
①	相似条件
	相似比
	相似条件
	相似比
	相似条件
	相似比

**問題2** 相似な三角形を3組選び記号を用いて表せ。(△ABC ∽ △XYZ)  
また相似条件と相似比を書け。相似比が求まらないものは③に書け。



①	相似条件
	相似比
	相似条件
	相似比
	相似条件
	相似比

**問題3** 相似な三角形を3組選び記号を用いて表せ。(△ABC ∽ △XYZ)  
また相似条件と相似比を書け。相似比が求まらないものは③に書け。



①	相似条件
	相似比
	相似条件
	相似比
	相似条件
	相似比