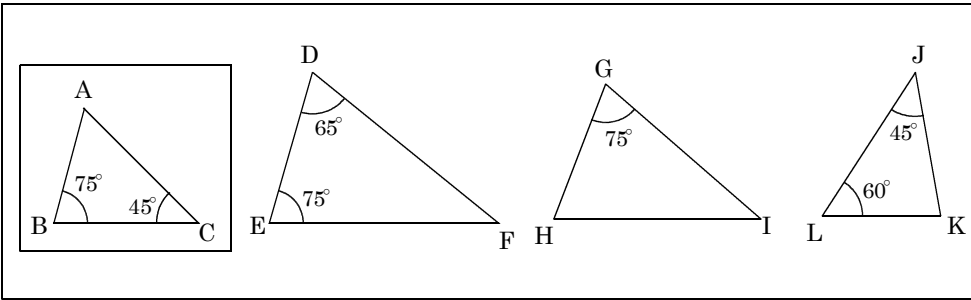


名 前		中 3	NO2	正 解
	NO 2		三角形の相似条件②	

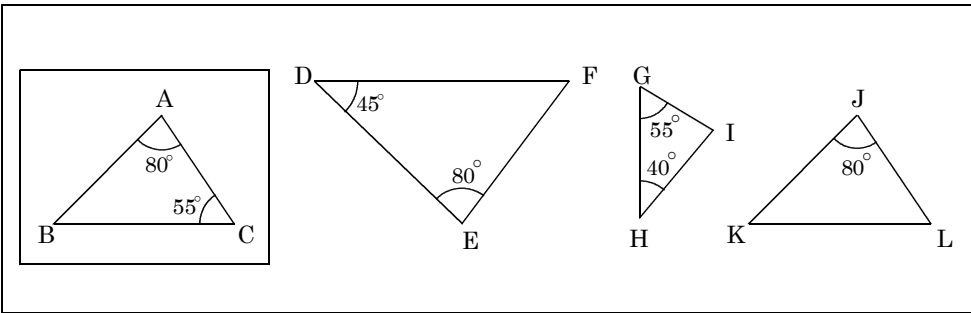
問題1 次の問いに答えよ。



①△ABCと相似な三角形を選べ

②相似条件を書け

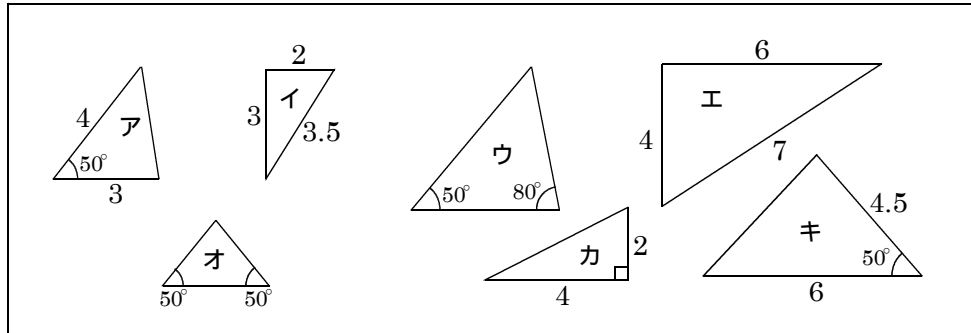
問題2 次の問いに答えよ。



①△ABCと相似な三角形を選べ

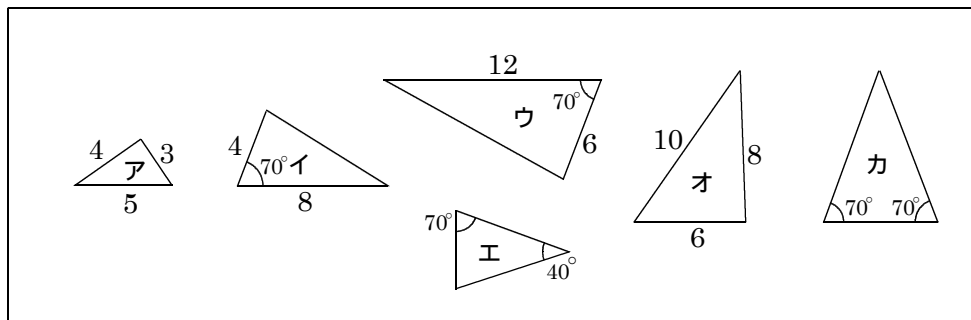
②相似条件を書け

問題3 相似な三角形を三組選び、相似条件と相似比を書きなさい。



①	相似条件	相似比
	<input type="text"/>	
②	相似条件	相似比
	<input type="text"/>	
③	相似条件	相似比
	<input type="text"/>	

問題4 相似な三角形を三組選び、相似条件と相似比を書きなさい。



①	相似条件	相似比
	<input type="text"/>	
②	相似条件	相似比
	<input type="text"/>	
③	相似条件	相似比
	<input type="text"/>	