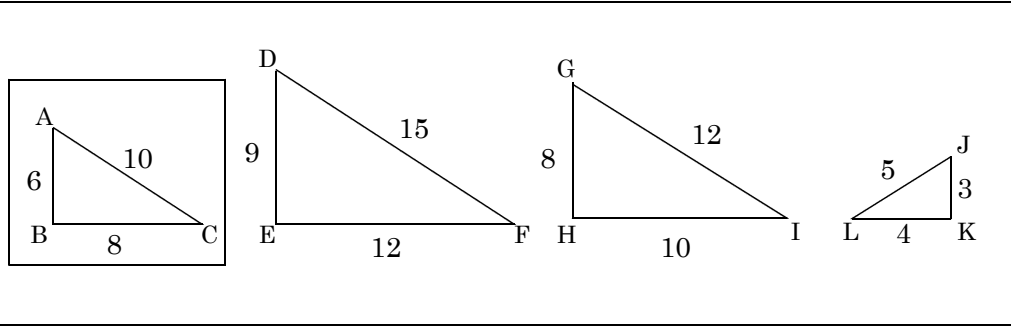


名前		中 3	NO2	正解	14
	NO 2		三角形の相似条件①		

問題1 次の問いに答えよ。



①△ABCと相似な三角形を2つ選べ

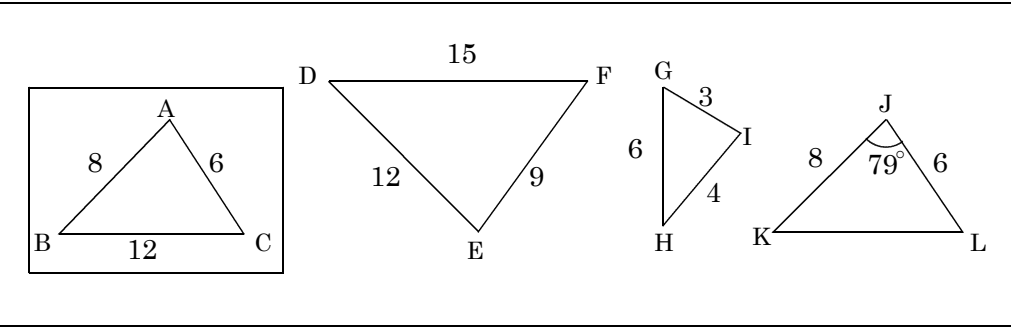
1	2
---	---

②相似条件を書け

③相似比を求めよ

1	2
---	---

問題2 次の問いに答えよ。

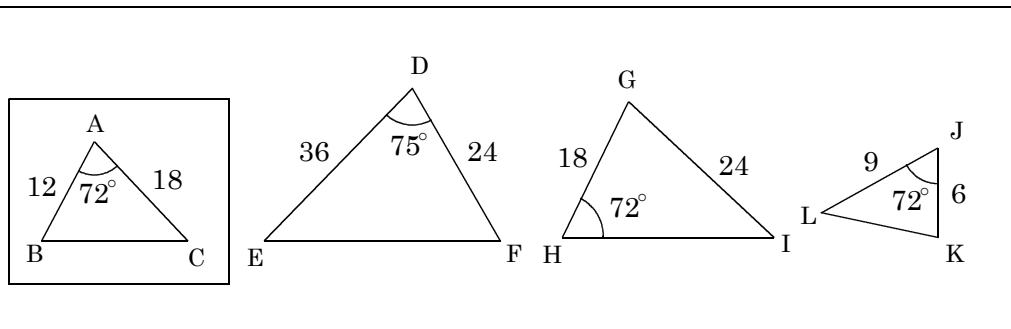


①△ABCと相似な三角形を選べ

②相似条件を書け

③相似比を求めよ

問題3 次の問いに答えよ。

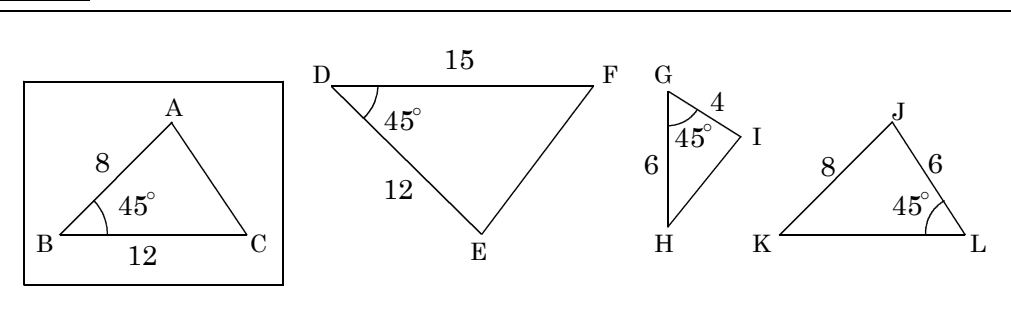


①△ABCと相似な三角形を選べ

②相似条件を書け

③相似比を求めよ

問題4 次の問いに答えよ。



①△ABCと相似な三角形を2つ選べ

②相似条件を書け

③相似比を求めよ