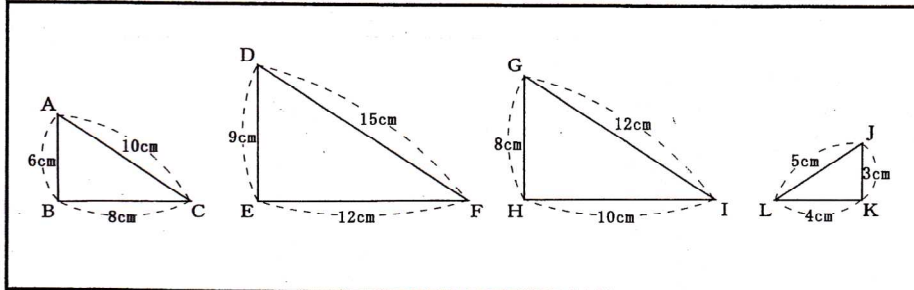


問題1 次の問いに答えよ



①△ABCと相似な三角形を2つ選べ

(1) $\triangle DEF$ (2) $\triangle JKL$

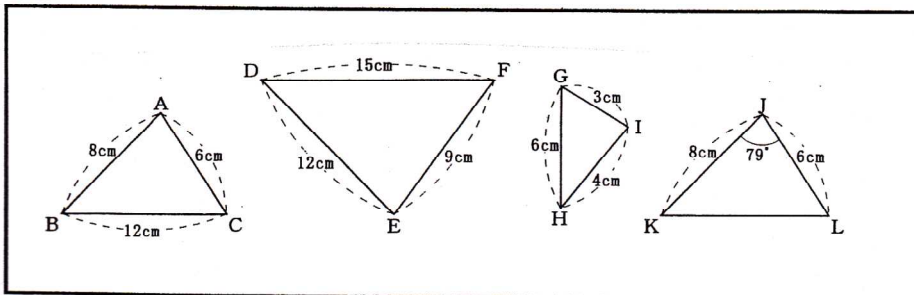
②相似条件を書け

三辺比相等

③相似比を求めよ

(1) $2:3$ (2) $2:1$

問題2 次の問いに答えよ



①△ABCと相似な三角形を選べ

$\triangle IHG$

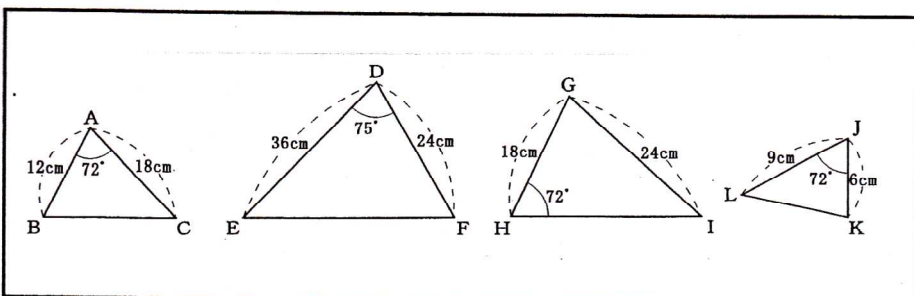
②相似条件を書け

三辺比相等

③相似比を求めよ

$2:1$

問題3 次の問いに答えよ



①△ABCと相似な三角形を選べ

$\triangle JKL$

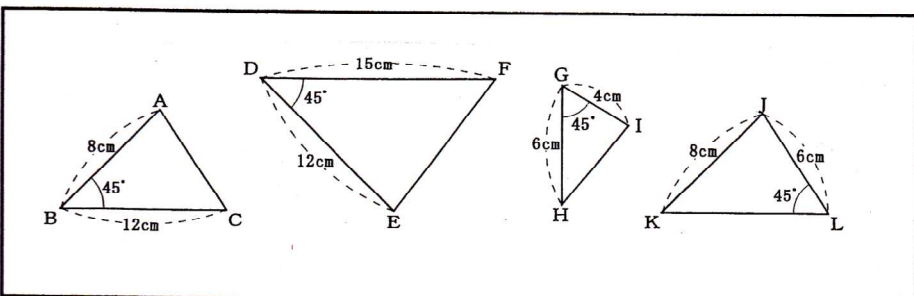
②相似条件を書け

\angle 二辺夾角相等

③相似比を求めよ

$2:1$

問題4 次の問いに答えよ



①△ABCと相似な三角形を選べ

$\triangle IGH$

②相似条件を書け

\angle 二辺夾角相等

③相似比を求めよ

$2:1$