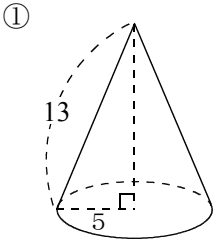


/	解説
/	NO12

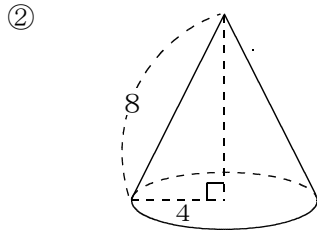
**三平方の定理 NO12**  
**円錐の問題**

NAME	

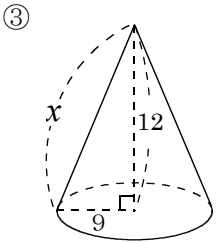
問題1 円錐で下記の値を求めよ。



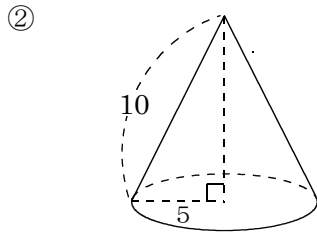
高さ
体積
側面積
表面積



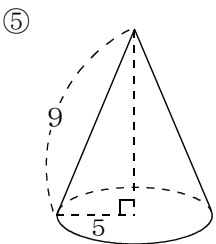
高さ
体積
側面積
表面積



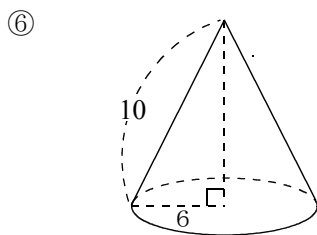
母線
体積
側面積
表面積



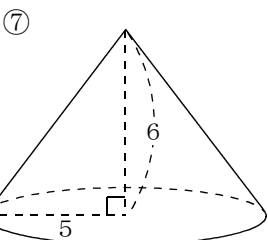
高さ
体積
側面積
表面積



高さ
体積
側面積
表面積

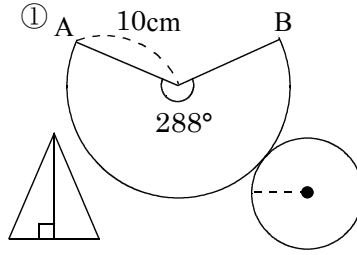


高さ
体積
側面積
表面積

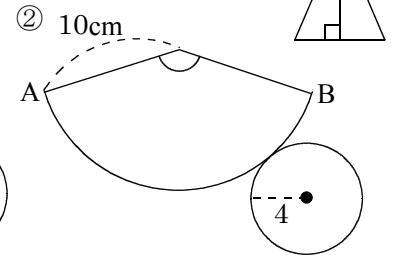


母線
体積
側面積
表面積

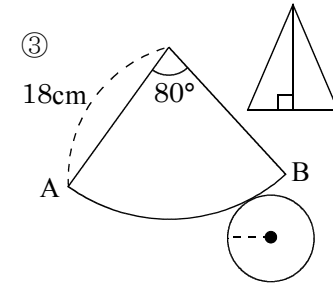
問題2 円錐で下記の値を求めよ。



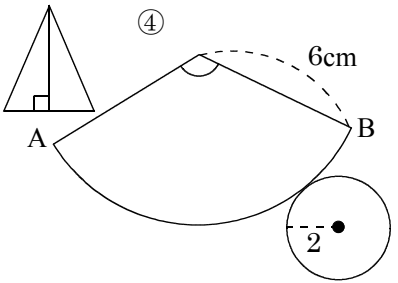
半径	側面積
高さ	表面積
体積	$\widehat{AB}$



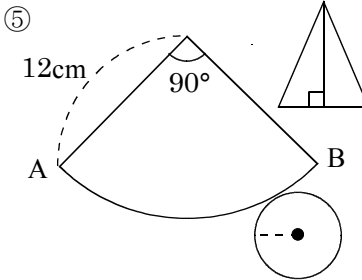
中心角	側面積
高さ	表面積
体積	$\widehat{AB}$



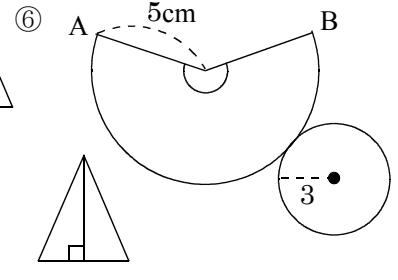
半径	側面積
高さ	表面積
体積	$\widehat{AB}$



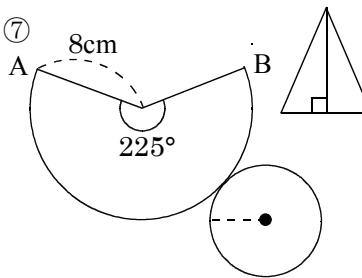
中心角	側面積
高さ	表面積
体積	$\widehat{AB}$



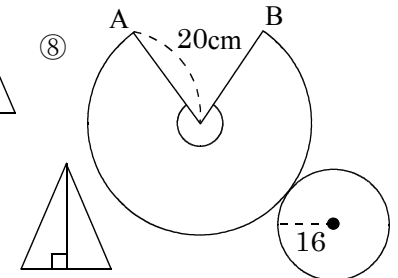
半径	側面積
高さ	表面積
体積	$\widehat{AB}$



中心角	側面積
高さ	表面積
体積	$\widehat{AB}$



半径	側面積
高さ	表面積
体積	$\widehat{AB}$



中心角	側面積
高さ	表面積
体積	$\widehat{AB}$