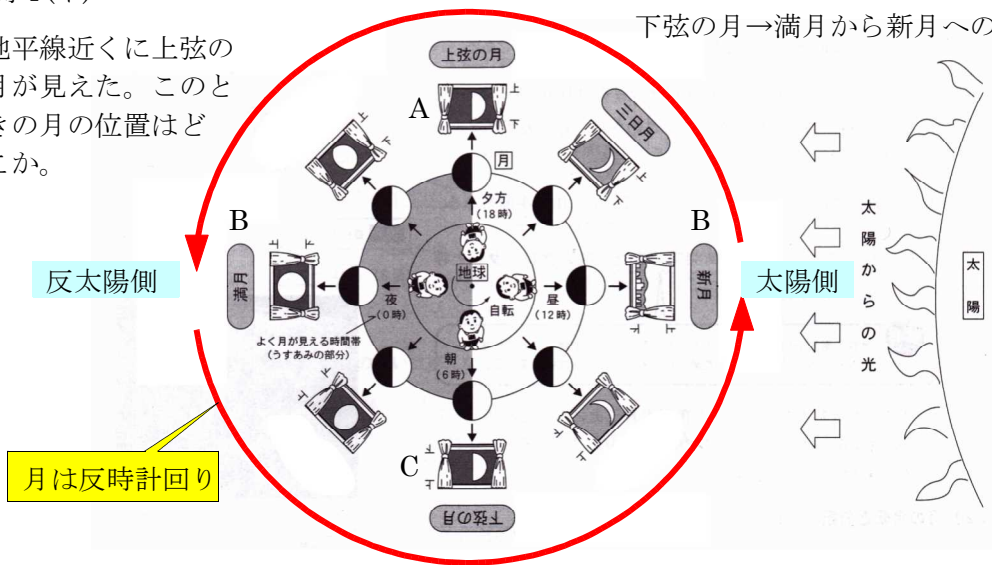


問4(イ)

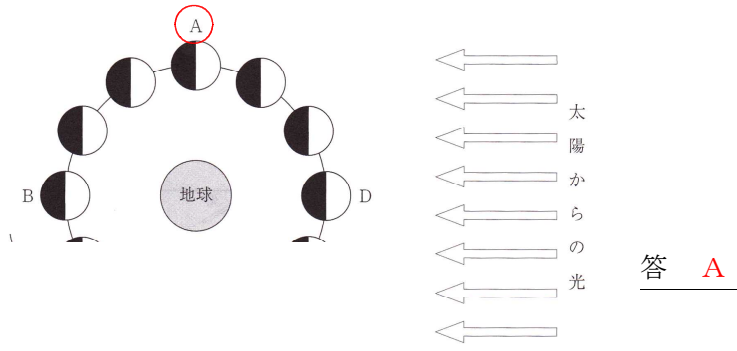
反時計回り

上弦の月→新月から満月への中
下弦の月→満月から新月への中

地平線近くに上弦の月が見えた。このときの月の位置はどこか。

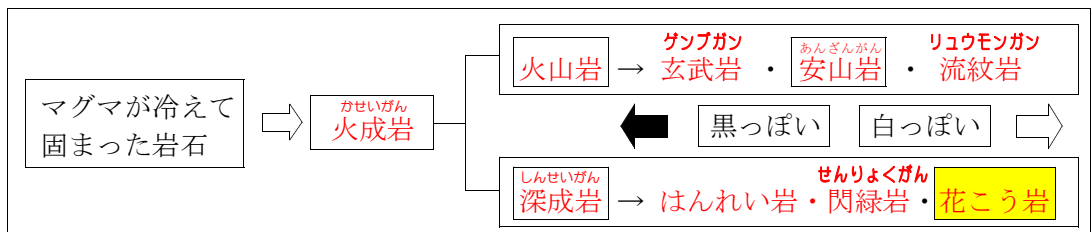


月は反時計回り




答 A

問4(ウ)



マグマがゆっくり冷え固まった岩石

深成岩 (花こう岩)
とろりゆうじょうそしき
等粒状組織
石基の部分がな
く大きな結晶の
みでできている



答
3 X - 深成岩
Y - 等粒状組織

花こう岩は、(X)の一種であり、鉱物の大きな結晶だけでできている。このようなつくりを (Y)という。