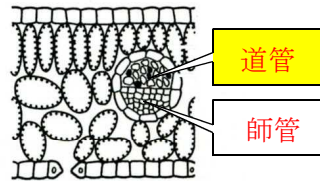
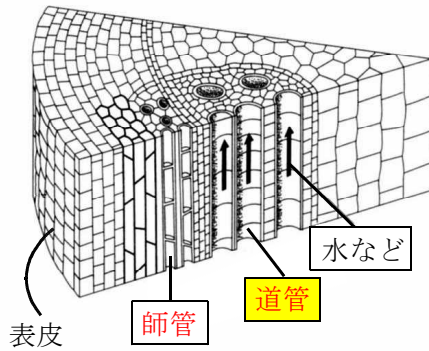


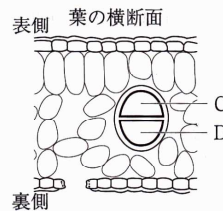
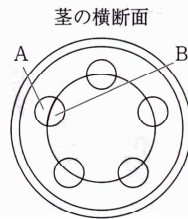
問3(ア) フラスコ内の赤い水を吸い上げて赤く染まった部分はどこか。



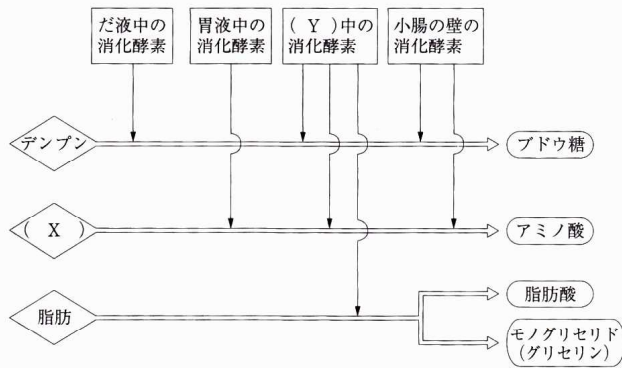
**道管** …根から吸い上げた水や肥料分が通る管

**師管** …葉でつくられたデンプンなどの養分が通る管

1. AとC
2. AとD
3. BとC
4. BとD



問3(イ)



	X	Y		X	Y
1	タンパク質	胆汁	3	炭水化物	胆汁
2	タンパク質	すい液	4	炭水化物	すい液

	炭水化物	タンパク質	脂肪
だ液			
胃液			
すい液			
腸液			

ブドウ糖      アミノ酸      脂肪酸  
モノグリセリド