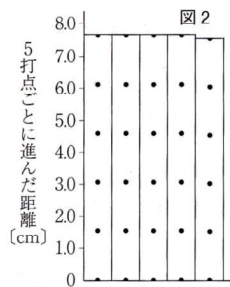
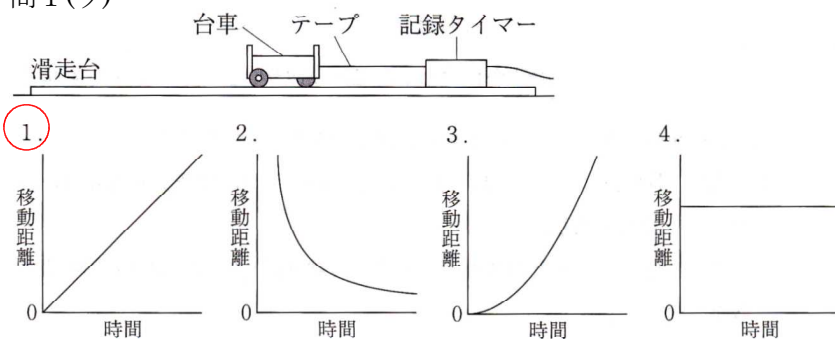
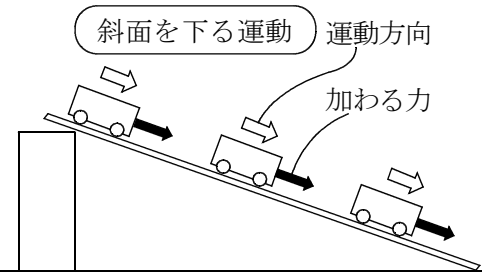
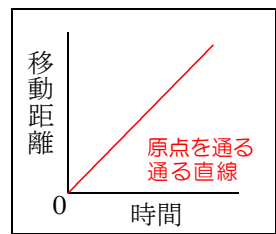

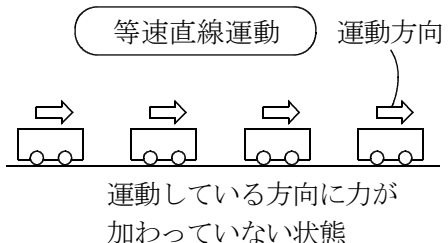


問1(ウ)



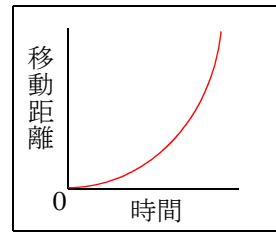
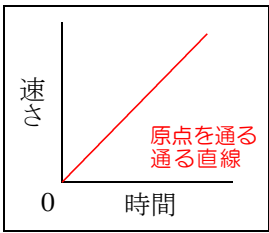
速さは一定

比例関係



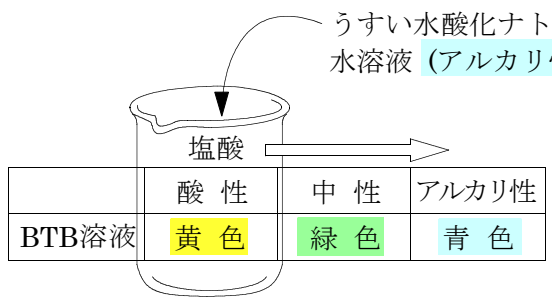
比例関係

曲線グラフ



問2(ア)

酸性 黄色
ビーカー内の、BTB溶液を数滴加えたうすい塩酸の色は (X) である。
アルカリ性
この水溶液にうすい水酸化ナトリウム水溶液を少しずつ加えていくと、やが
青色
てビーカー内の水溶液の色は緑色に変化し (Y) へと変化する。



答 2 X黄色, Y青色