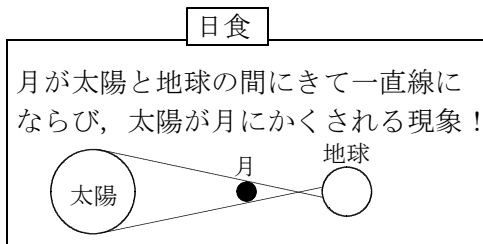

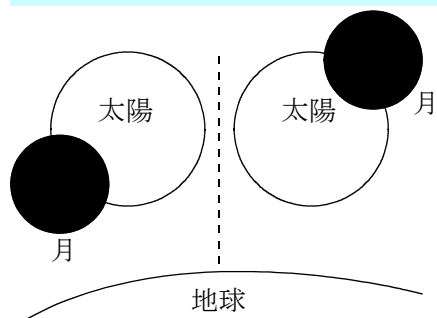


問8(ウ)日食のときの太陽の欠けかたとして正しいのはどれか。

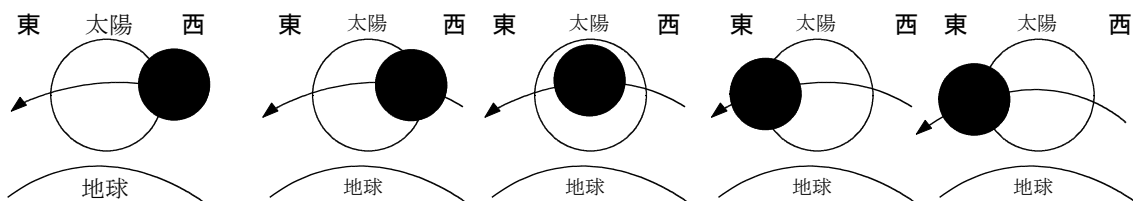


かけかたが中にくいこむようにかける



月は地球と同じ反時計回りに公転している

(太陽を見たとき、右が西で左が東になる)



太陽は、西から東(右から左)に欠けていくことがわかる!