

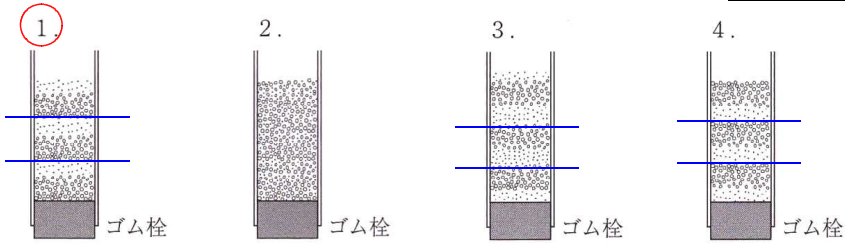
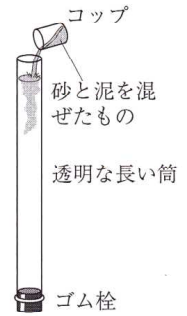
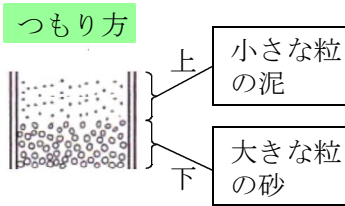


問4(イ)

〔実験〕 図のように、水を満たした透明な長い筒を垂直に固定して、次の①、②を3回繰り返した。

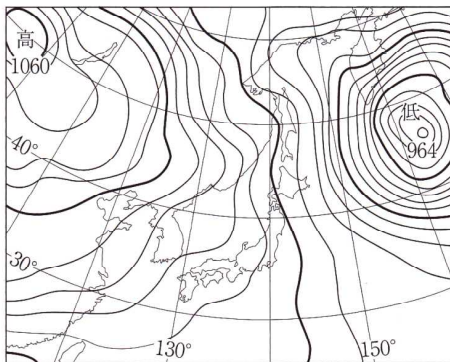
- ① 砂と泥を混ぜたものをいちどに注ぎこむ。
- ② 水のごりがとれるまで静かに置く。

 は砂を表し、 は泥を表している。



問4(ウ)

図は **冬のある日** の午前9時における日本付近の気圧配置を示したものである。



北西

シベリア気団・冬に影響
冷たい、乾燥した空気
中心にシベリア高気圧がある



図で、日本の北西の大陸上にある高気圧の位置に発達する気団の特徴を説明したものととして最も適するものを次の1～4の中から一つ選び、その番号を書きなさい。

- ① 冷たく乾燥している。
- ② あたたく乾燥している。
- ③ 冷たく湿っている。
- ④ あたたく湿っている。