


問7(エ)

図5は、ホウセンカの葉のスケッチである。ホウセンカと同じなかまの植物の葉のスケッチはどれか。適するものを選び、その番号を書きなさい。

そうじょうるい  
双子葉類


ホウセンカ



もうじょう みやく  
網状脈

図5

1.



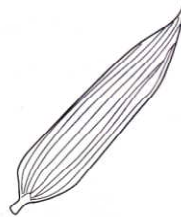
平行脈

2.



もうじょう みやく  
網状脈

3.



平行脈

4.



もうじょう みやく  
網状脈

答 2, 4