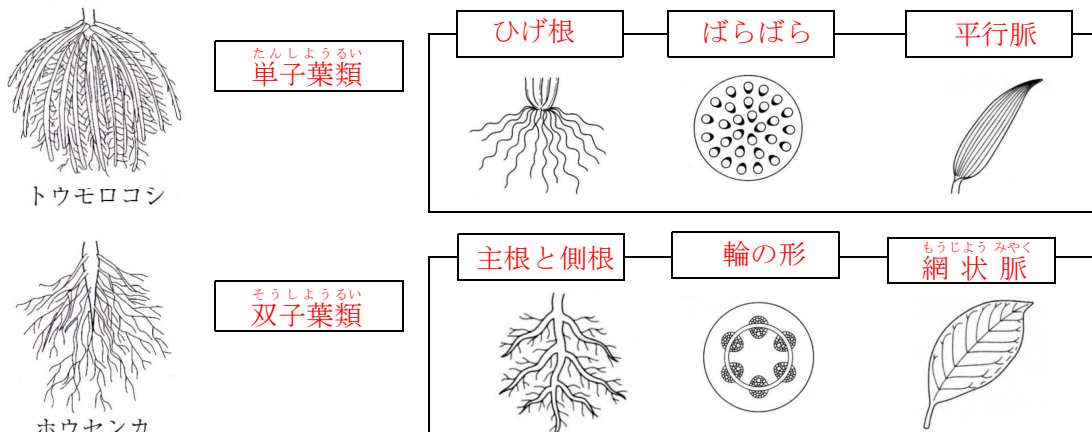


問7(ア)

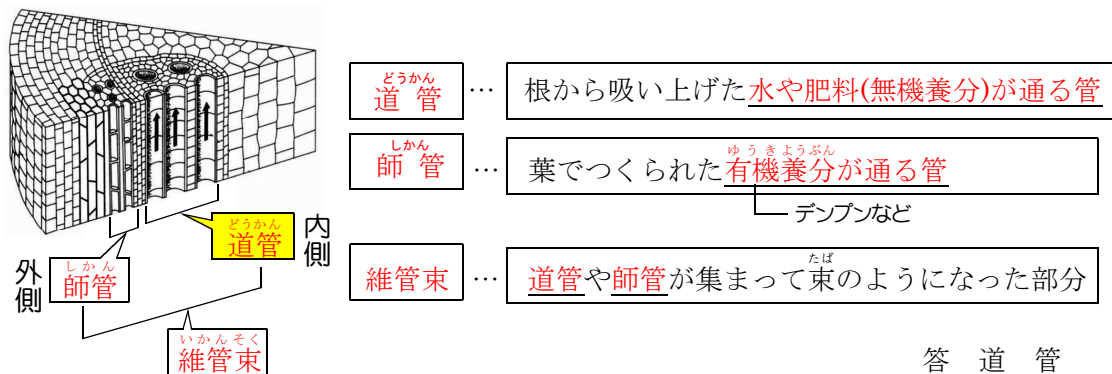
トウモロコシの茎の中の維管束はどのような配置になっているか。簡単に書きなさい。



答 ばらばらになっている

問7(イ)

〔観察2〕で、葉脈や茎で赤く染まった管を何というか。適する語で書きなさい。

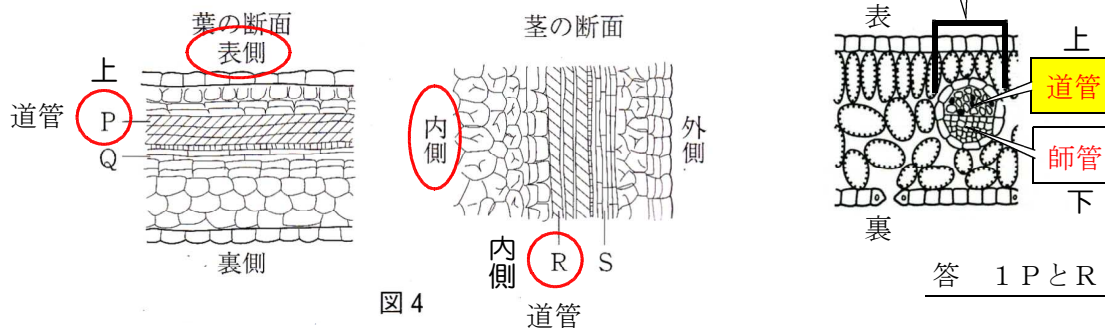


答 道管

問7(ウ)

〔観察2〕において、図4のPとQ, RとSのうち、より赤く濃く染まった部分はそれぞれどちらか。その組み合わせとして最も適するものを一つ選び書きなさい。

ポイント：より赤く濃く染まるのは、水を吸い上げる道管の方



答 1 PとR