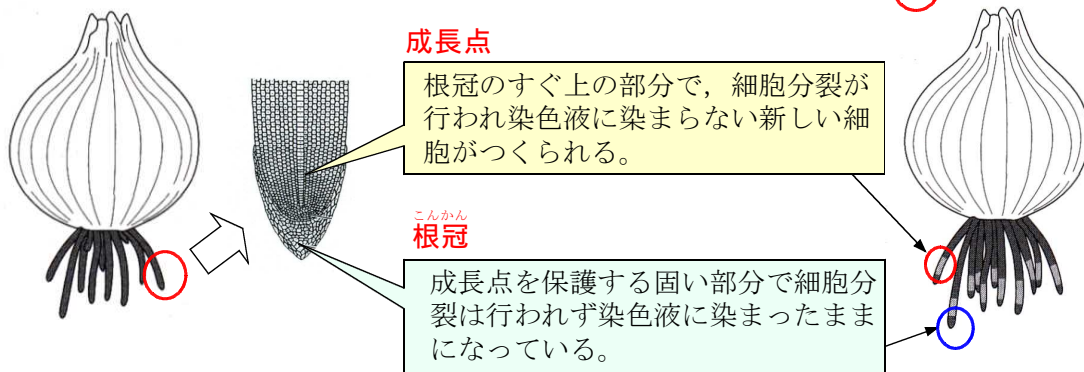


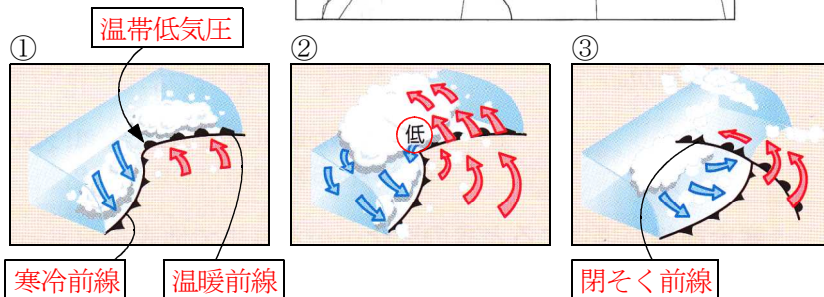
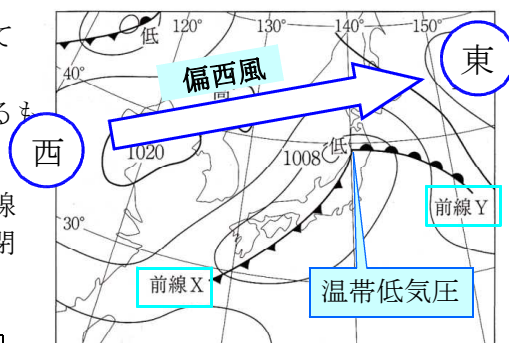
問3(ウ) 左の図のように根が赤色に染まった後、水が入ったビーカーの中に入れて一日置いた。根のようすとして最も適するものを選びなさい。3.



問4(ア)

図の中に見られる前線XとYをともなっている温帯低気圧の移動する方角や前線の変化について述べたものとして最も適するものを一つ選びなさい。

2. 温帯低気圧は西から東へ移動し、前線XはYよりも速く移動するため、この後閉そく前線になる。



問4(イ) 観測地点Bの記録として最も適するものを選び書きなさい。

ポイント震源から近いほど初期微動継続時間が短く揺れが大きい

