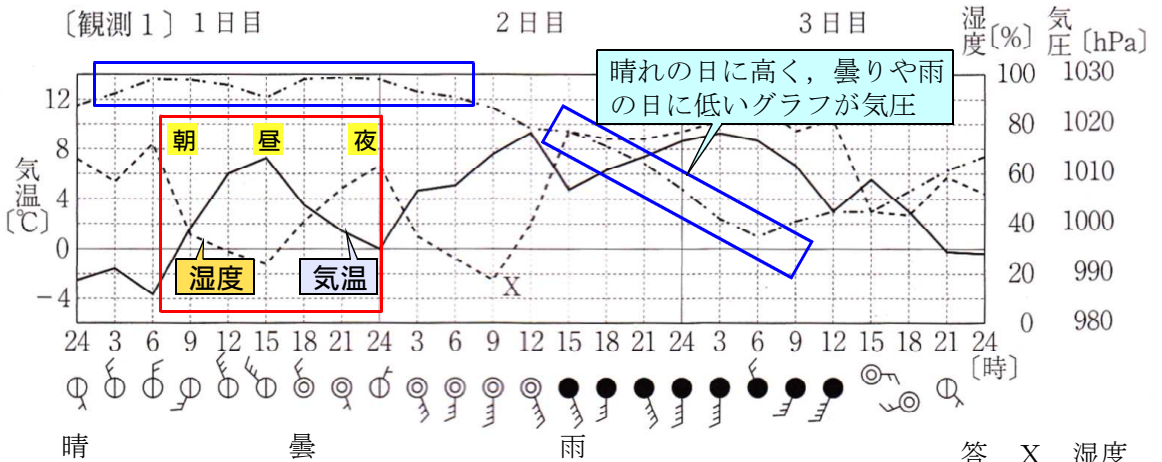


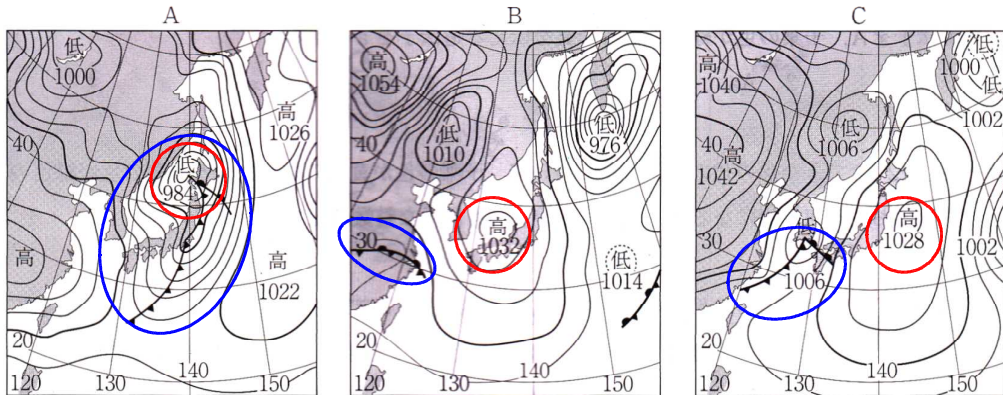
問8(ア)



答 X 湿度

気圧が徐々に低くなっていく。天気が徐々に悪くなっていく。

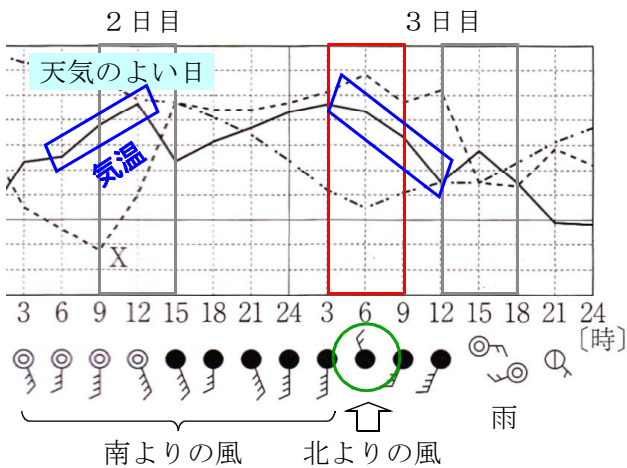
問8(イ) 図のA～Cを日付順に並べるとどうなるか。最も適するものを一つ選びなさい。



低気圧が西から東へと移動する順番で選ぶ

答2. B→C→A

問8(ウ) グラフから、寒冷前線はいつ観測地点を通過したと考えられるか。最も適するものを一つ選びなさい。また、そのように考えた理由を、30字以内で書きなさい。ただし、気温、風向という2つの語を用いること。



理由

風向が南よりから北よりに変わって(普通なら気温が上がるところが…) 気温が下がっているから。

答3. 3日目の3時から9時の間