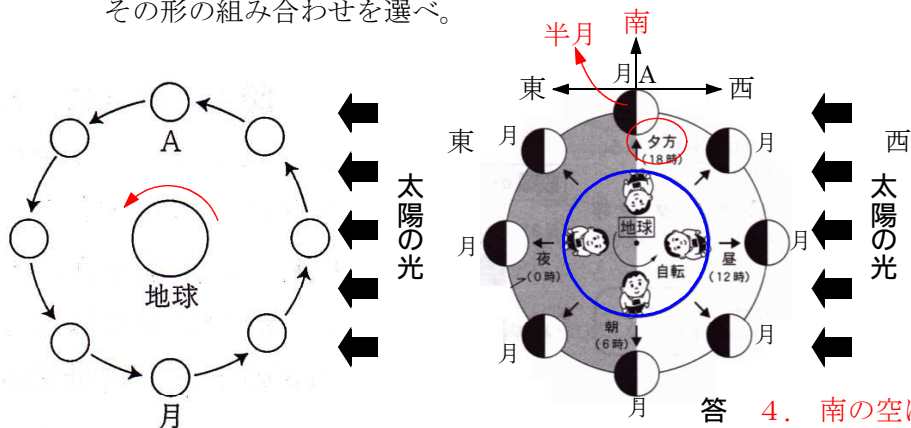
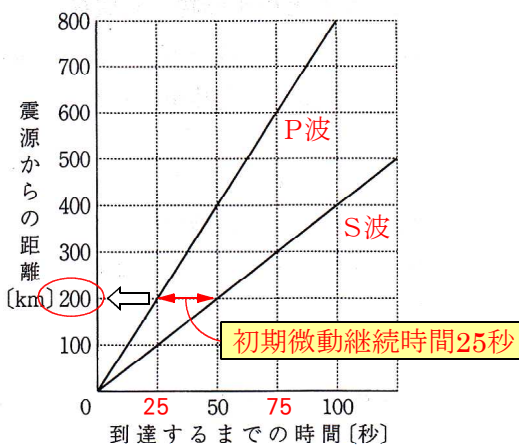
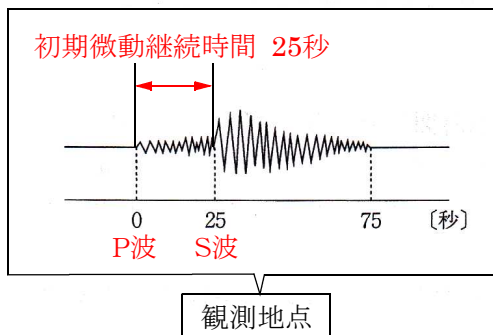


4 (ア)月がAの位置にあるとき神奈川県で10月の午後6時頃に月が見える方角とその形の組み合わせを選べ。



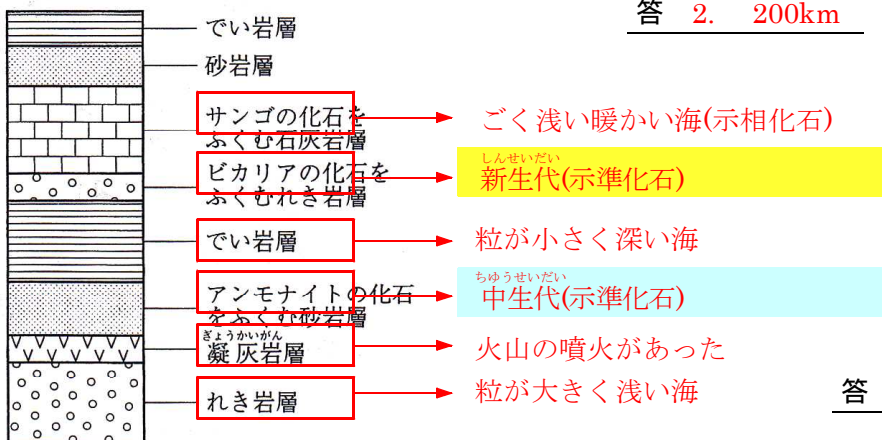
答 4. 南の空に半月が見える

(イ) 観測地点と震源との距離



答 2. 200km

(ウ)



答 2.

- 1 この地域は中生代の間、常に深い海であったと考えられる。
- 2 この地域は中生代に、火山活動があったと考えられる。
- 3 この地域は新生代の間、常に浅くて冷たい海であったと考えられる。
- 4 この地域は新生代に、火山活動があったと考えられる。