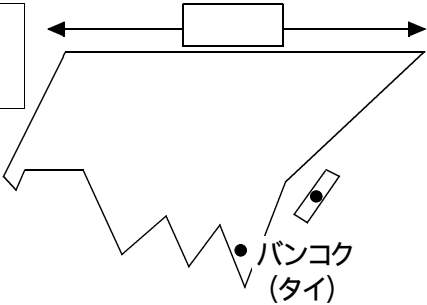
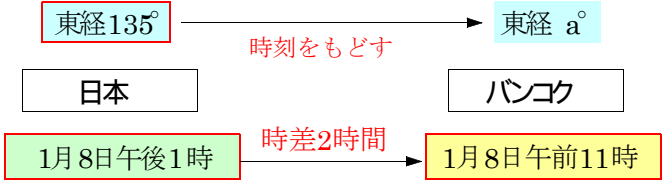


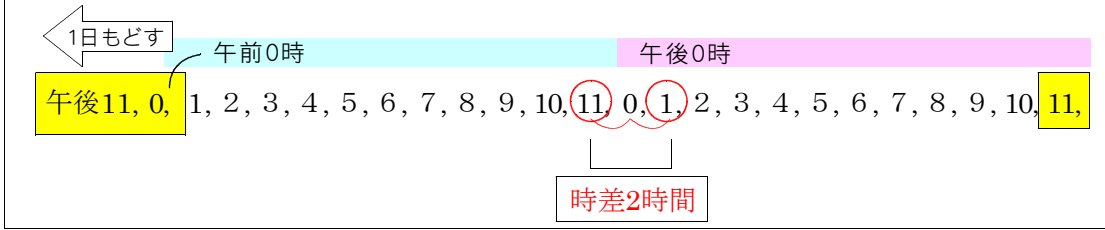
時差特訓問題No 1

日本の時刻の基準となる経線は兵庫県明石市あかししを通る東経135度の経線である。日本が1月8日午後1時のとき、タイのバンコクは同じ日の午前11時である。タイの時刻の基準となる経度は何度か。

日本と東経 $(135 - \bigcirc) \div 15 = \text{時差}$ [時刻をもどす]
 日本と西経 $(135 + \bigcirc) \div 15 = \text{時差}$ [時刻をもどす]



日本と東経 $(135 - a) \div 15 = 2$ 答 東経 105°



日本と東経 $(135 - a) \div 15 = 2$
 $135 - a = 2 \times 15$
 $135 - a = 30$
 $-a = 30 - 135$
 $-a = -105$
 $a = 105$