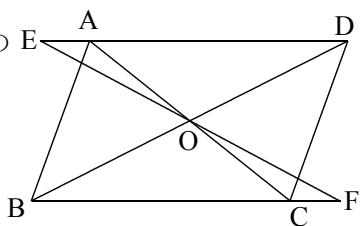


証明確認テストー5 名前

平行四辺形 $ABCD$ の E とき $OE = OF$ となることを証明せよ。



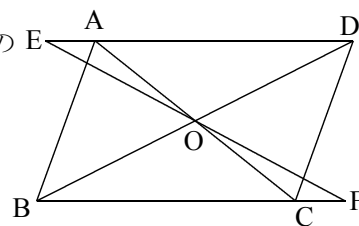
(仮定)

(結論)

(証明)

証明確認テストー5 名前

平行四辺形 $ABCD$ の E とき $OE = OF$ となることを証明せよ。



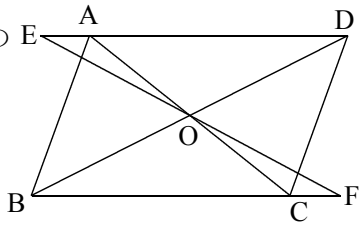
(仮定)

(結論)

(証明)

証明確認テストー5 名前

平行四辺形 $ABCD$ の E とき $OE = OF$ となることを証明せよ。



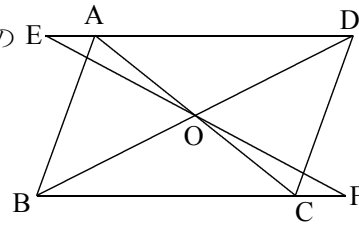
(仮定)

(結論)

(証明)

証明確認テストー5 名前

平行四辺形 $ABCD$ の E とき $OE = OF$ となることを証明せよ。



(仮定)

(結論)

(証明)
