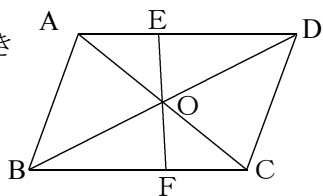


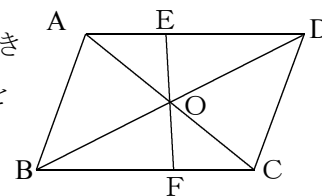
証明確認テストー4 名前

④ $\square ABCD$ で右図のとき
 $OE = OF$ であることを
証明せよ。



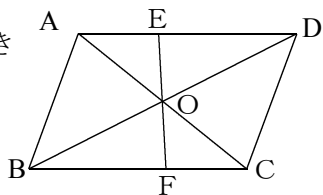
証明確認テストー4 名前

④ $\square ABCD$ で右図のとき
 $OE = OF$ であることを
証明せよ。



証明確認テストー4 名前

④ $\square ABCD$ で右図のとき
 $OE = OF$ であることを
証明せよ。



証明確認テストー4 名前

④ $\square ABCD$ で右図のとき
 $OE = OF$ であることを
証明せよ。

