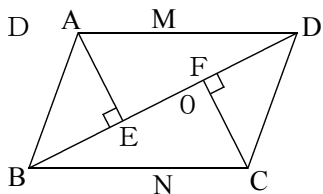


証明確認テストー2 名前

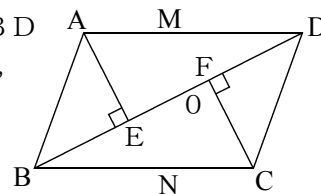
② $\square ABCD$ の対角線BDにA, Cから垂線AE, CFをひく。このとき $AE = CF$ となることを証明せよ。



(ワーク)

証明確認テストー2 名前

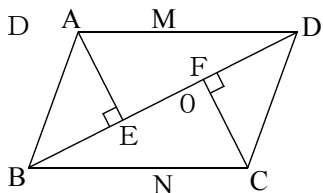
② $\square ABCD$ の対角線BDにA, Cから垂線AE, CFをひく。このとき $AE = CF$ となることを証明せよ。



(ワーク)

証明確認テストー2 名前

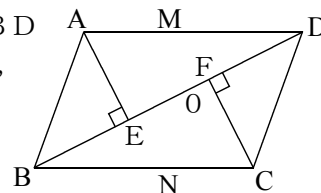
② $\square ABCD$ の対角線BDにA, Cから垂線AE, CFをひく。このとき $AE = CF$ となることを証明せよ。



(ワーク)

証明確認テストー2 名前

② $\square ABCD$ の対角線BDにA, Cから垂線AE, CFをひく。このとき $AE = CF$ となることを証明せよ。



(ワーク)
