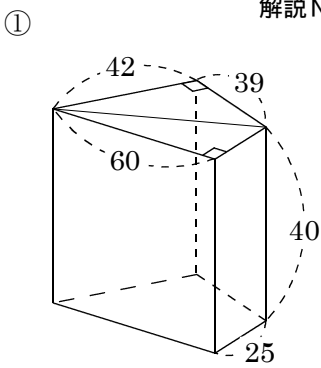


/	解説
/	各問記載

空間図形
中 1 表面積と体積まとめ⑤

NAME	mistake

問題1 次の問いに答えよ

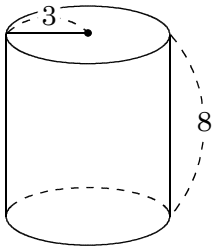


解説NO14 側面積

底面積

表面積

② 解説NO15

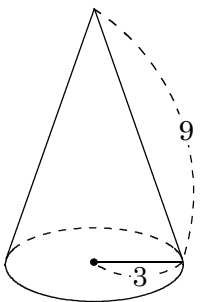


側面積

底面積

表面積

③ 解説NO16

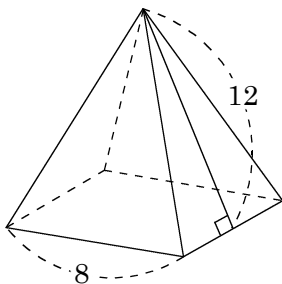


側面積

表面積

中心角

④ 解説NO17

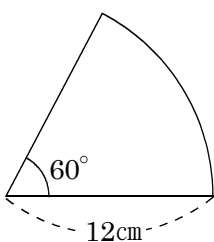


側面積

底面積

表面積

⑤ 解説NO13



弧の長さ

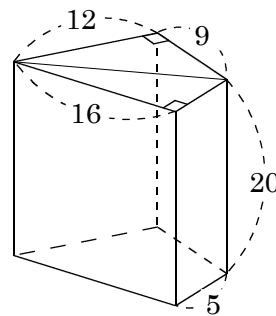
おうぎ形の面積

⑥ 半径が8cm, 弧の長さが 4π cmのおうぎ形の中心角

解説NO13

問題2 次の問いに答えよ。

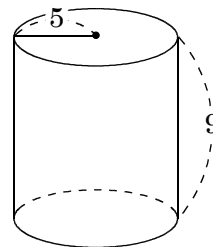
① 解説NO18



底面積

体積

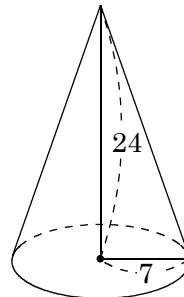
② 解説NO18



底面積

体積

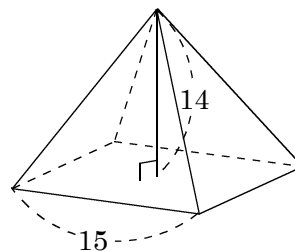
③ 解説NO18



底面積

体積

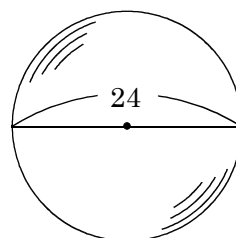
④ 解説NO18



底面積

体積

⑤ 解説NO19



表面積

体積