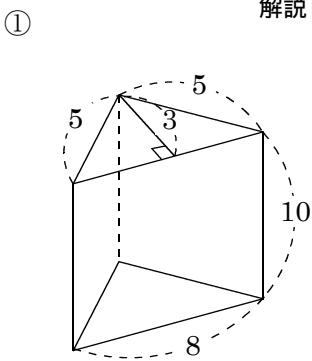


| | |
|---|------|
| / | 解説 |
| / | 各問記載 |

| |
|--------------------|
| 空間図形 |
| 中 1 表面積と体積まとめ-④ |

| | |
|------|---------|
| NAME | mistake |
| | |

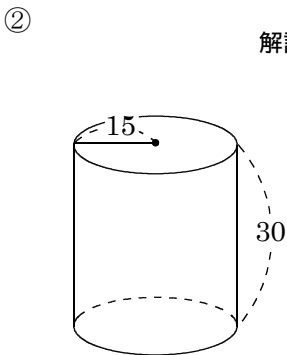
問題1 次の問いに答えよ



解説NO14 側面積

底面積

表面積

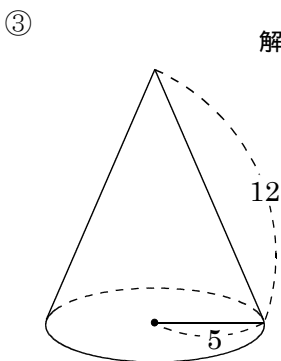


解説NO15

側面積

底面積

表面積

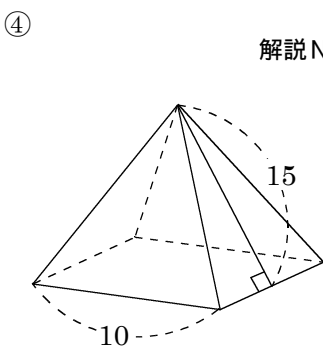


解説NO16

側面積

表面積

中心角

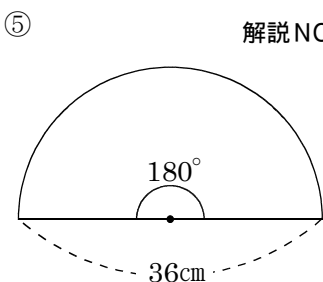


解説NO17

側面積

底面積

表面積



解説NO13

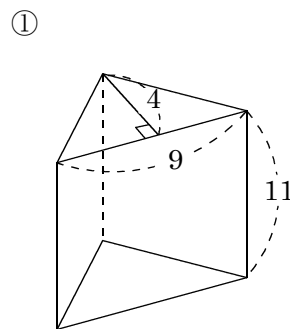
弧の長さ

おうぎ形の面積

⑥ 半径が12cm, 弧の長さが 5π cmのおうぎ形の中心角

解説NO13

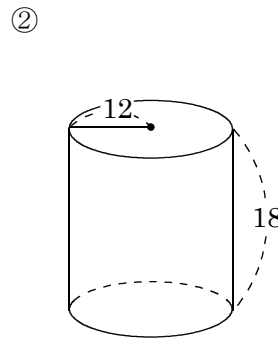
問題2 次の問いに答えよ。



解説NO18

底面積

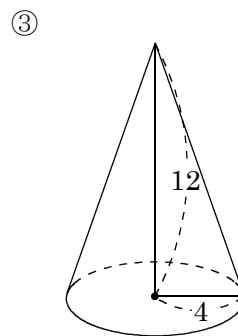
体積



解説NO18

底面積

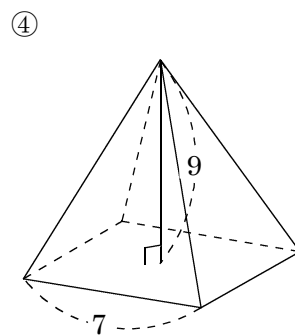
体積



解説NO18

底面積

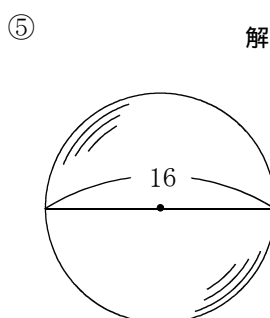
体積



解説NO18

底面積

体積



解説NO19

表面積

体積