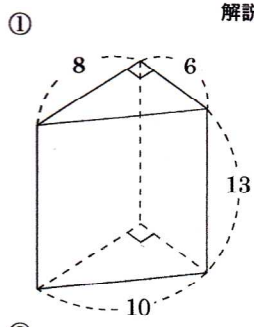


名前	解説	中 1	空間図形	%	mistake	月
			表面積と体積まとめ①	正		36

問題1 次の問いに答えよ



解説NO14 側面積

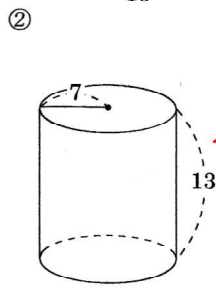
312

底面積

24

表面積

360



解説NO15

側面積

182

~~1120π~~

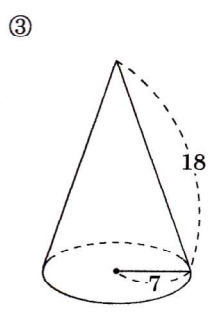
底面積

49π

表面積

280π

Handwritten calculation: $14 \times 13 = 42$



解説NO16

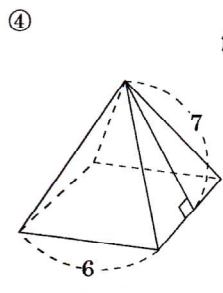
側面積

126π

~~側面積 175π~~

~~表面積 140π~~

140



解説NO17

側面積

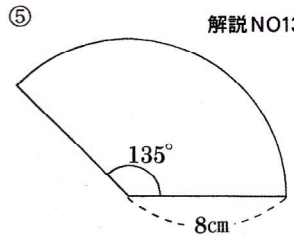
84

底面積

36

表面積

120



解説NO13 弧の長さ

6π

おうぎ形の面積

24π

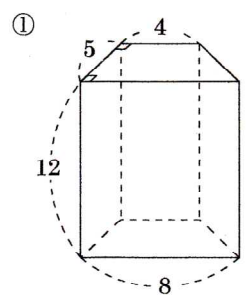
⑥ 半径が8cm, 弧の長さが4π cmのおうぎ形の中心角

解説NO13

90°

問題2 次の問いに答えよ。

表面積と体積①



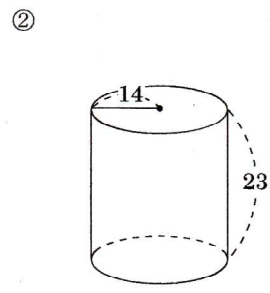
解説NO18

底面積

30

体積

360

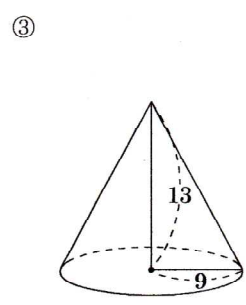


底面積

196π

体積

4508π

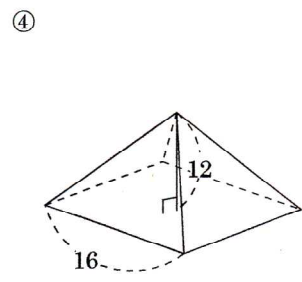


底面積

81π

体積

351π

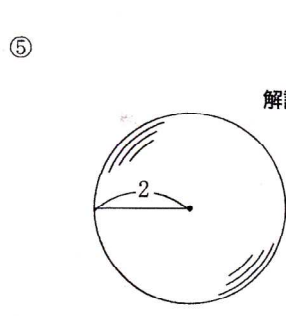


底面積

256

体積

1024



解説NO22

表面積

16π cm²

体積

$\frac{32}{3}\pi \text{ cm}^3$