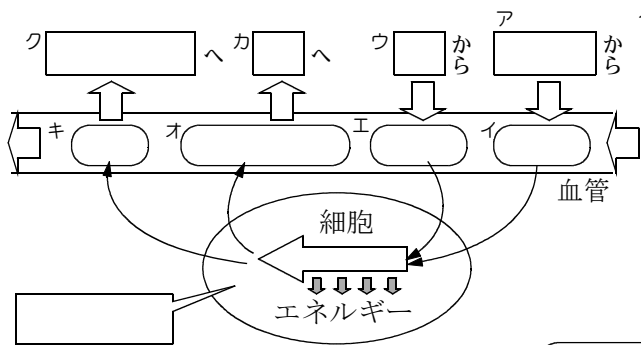


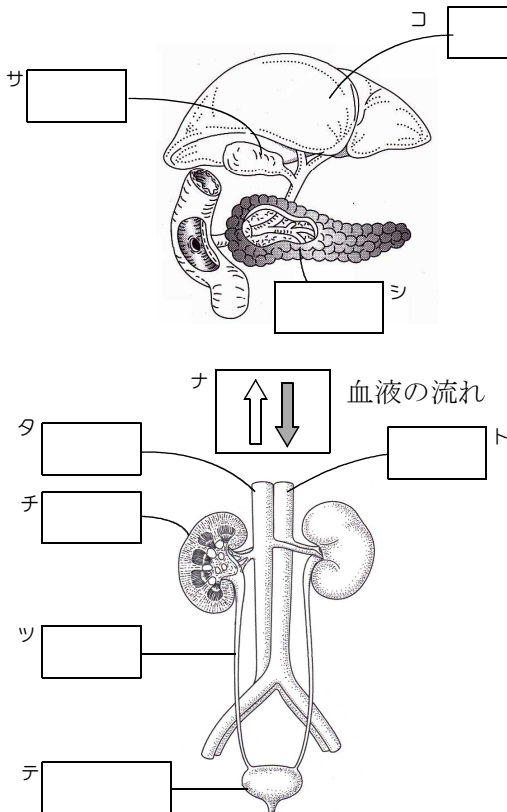
肝臓とじん臓のはたらき



一つ一つ細胞は酸素と養分を取り入れて、生きるためのエネルギーを取り出している()

_____は_____により_____と_____に分解され、このときに_____が得られる。

肝臓のはたらき



①脂肪の消化を助ける_____をつくる。
_____は_____にためられた後、
_____に送り出される。

②_____を_____にかえて
貯蔵する。

③_____を分解するときにする
_____という有害な物質を、
_____という無害な物質に変える。
_____は、_____で_____に運ばれて
不用な物質として、_____に排出
される。

じん臓のはたらき

①じん臓で、血液から除かれた_____
____や____は、____としていったん、
_____にためられた後、体外に
排出される。


※体の中の不要物が、体外に出されることを_____という。排出には、おもに_____と_____がかかわる。

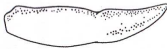
(1)肺で交換された気体は何によって運ばれるか。-----ネ

(2)血液が全身を循環している経路を二つあげよ。-----ノ

(3)消化管の途中で消化液が出されているのはどこか。-----ハ

(4)吸収された養分は何のはたらきに使われているか。-----ヒ

(5)  ⇒ _____で_____で大きく、草をすりつぶすのに適する。

 ⇒ _____で_____で大きく、獲物をとらえるのに適する。