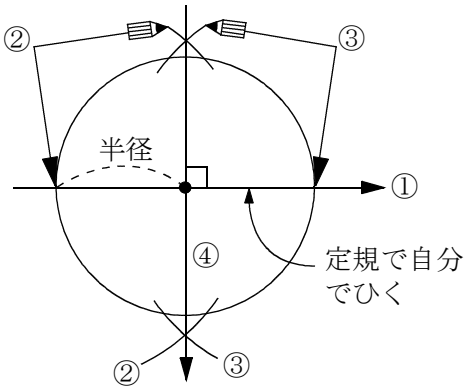
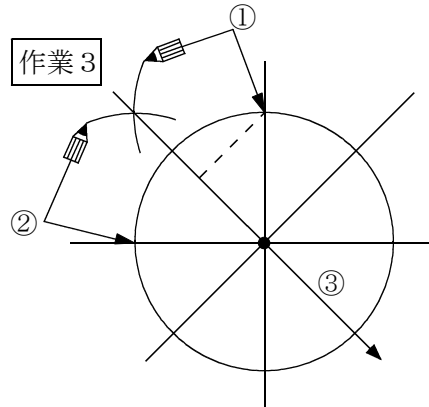


作図6 正八角形を角の二等分線を利用して作図せよ。

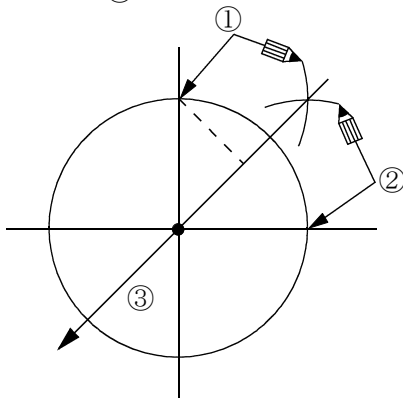
作業1



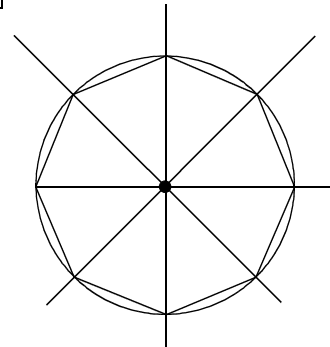
作業3



作業2

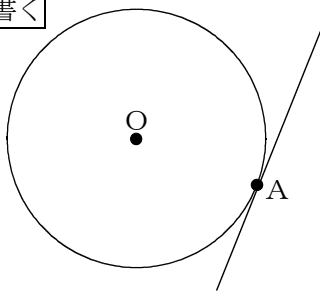


作業4



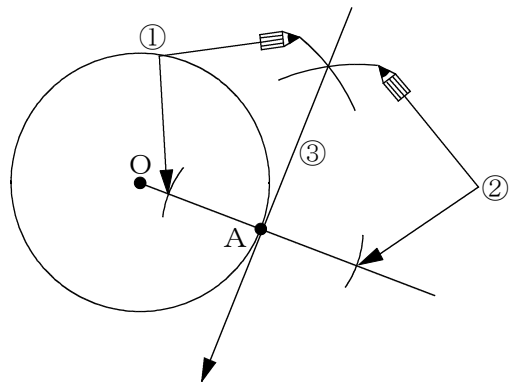
作図7 円Oの周上の点Aを通る接線を作図せよ。

まず円を書く



作業2

交わる2点の垂直二等分線を書く。それが接線になる。



作業1

半直線OAを書く。中心Aから半直線OAと交わる2点をとる。

