

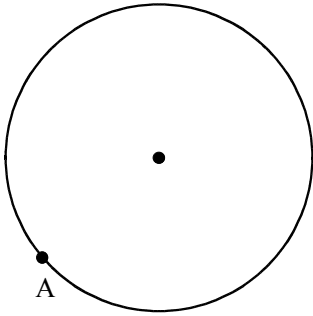
/	解説
/	NO6,7

平面図形 NO 6,7
中 1 基本作図⑦&⑧

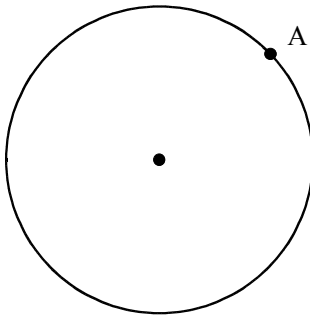
NAME	mistake

問題2 円Oの周上の点Aを通る接線を作図せよ。

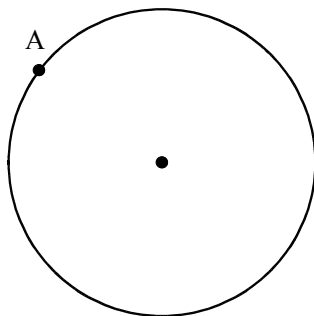
①



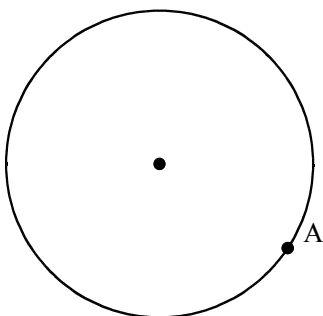
②



③



④



問題2 AC, AB, BDまでの距離が等しい点Pと3つの線分に接する円の作図。

