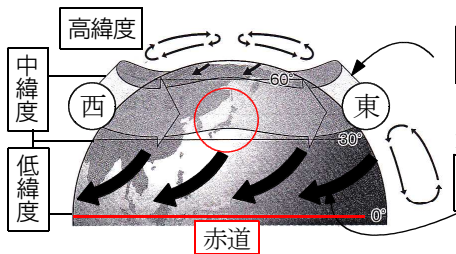


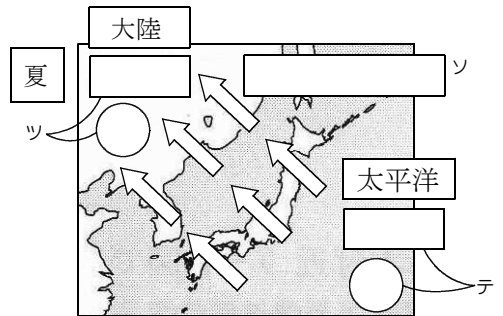
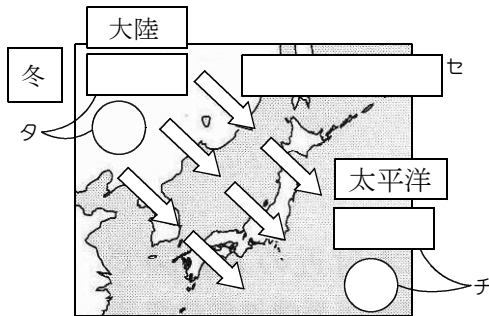
ア
 □ …地球をとりまく大気の層のこと。厚さは数百kmで、上空へいくほど空気の密度は^イ____なり、^ウ____なる。地表から15kmの高さでは、空気の密度は地表の^エ____しかない。地球の半径は____なので、これに比べて大気圏の厚さは非常に薄い。大気圏の中^カでも、上昇気流などの対流は地上から高さ____までの層の中で起きる。雲ができるのはこの薄い層の中だけである。空気の温度は上空へいくほど____。
 キ



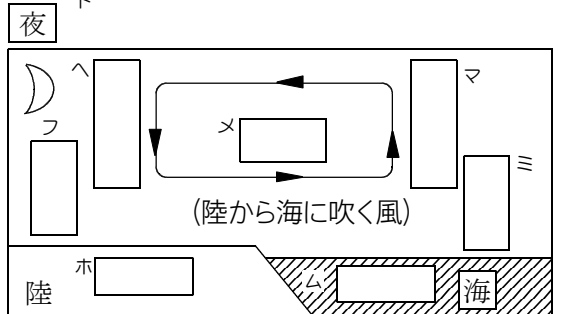
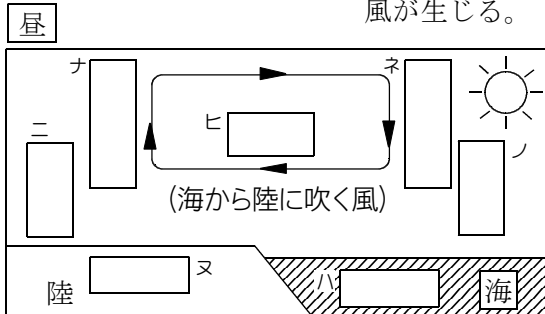
ク □ …日本が位置する中緯度地帯の上空で____
 ____向かう大きな大気の流れ。
 このため日本の天気は____変わる。
 ケ
 コ □ …低緯度地域の地表付近では、____
 向かう風。
 サ

シ □ …ある地域で季節ごとに決まってふく風のこと。原因は、____
 ____である。
 ス

日本の
 冬の____大陸から太平洋へ向かってふく____。
 セ
 夏の____太平洋から大陸へ向かってふく____。
 ソ



海に面した地域 □ 大陸は海洋に比べて____。このため
 風が生じる。
 昼 ト



上空ではどの季節でも____がふいているが、地表付近では、____
 ____が吹いている。
 モ ヤ