

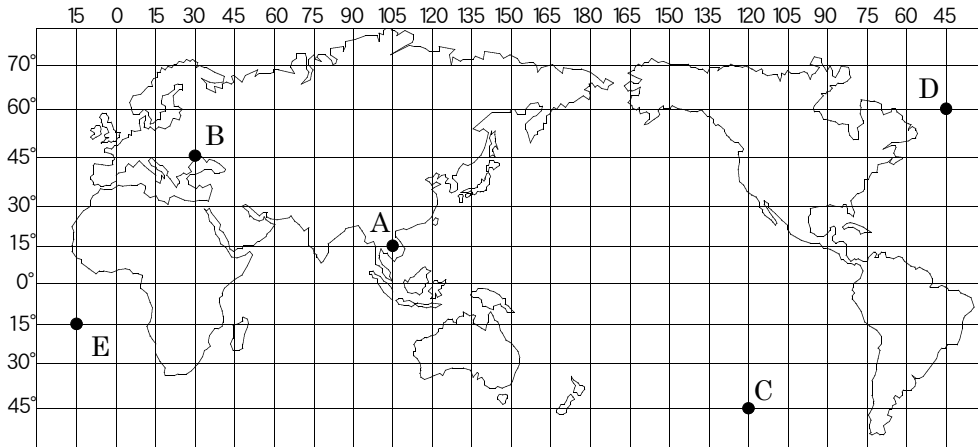
開始日 月 日	終了日 月 日
---------------	---------------

世界のさまざまな地域

地球上の位置の表し方②

間違えた数	NAME

問題 下のアルファベットの位置の緯度と経度を書きなさい。



- A

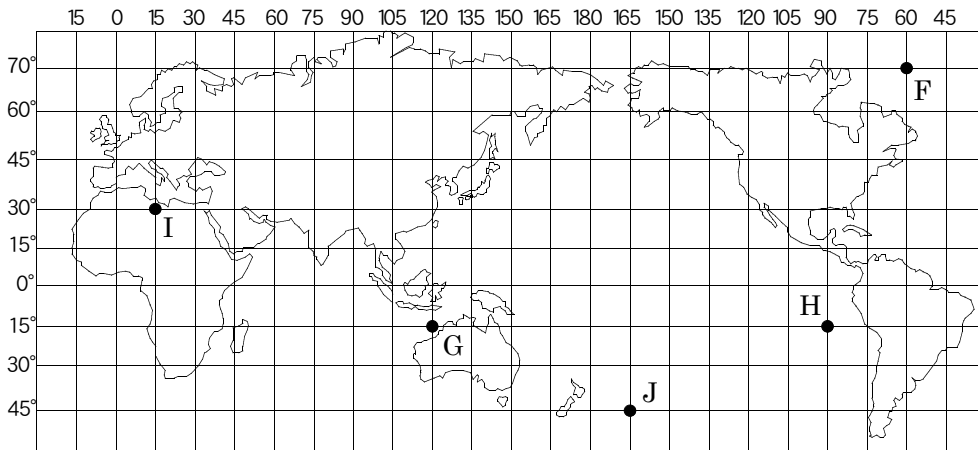
北緯	東経
南緯	西経
- B

北緯	東経
南緯	西経
- C

北緯	東経
南緯	西経
- D

北緯	東経
南緯	西経
- E

北緯	東経
南緯	西経



- F

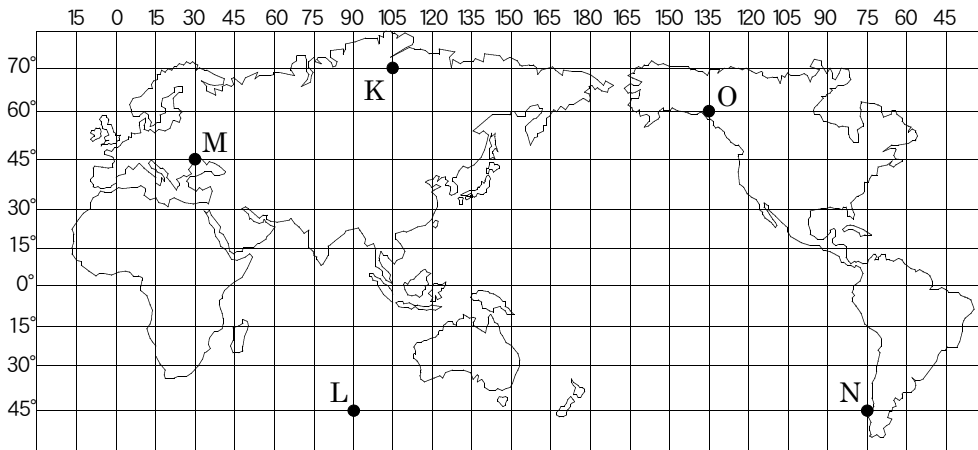
北緯	東経
南緯	西経
- G

北緯	東経
南緯	西経
- H

北緯	東経
南緯	西経
- I

北緯	東経
南緯	西経
- J

北緯	東経
南緯	西経



- K

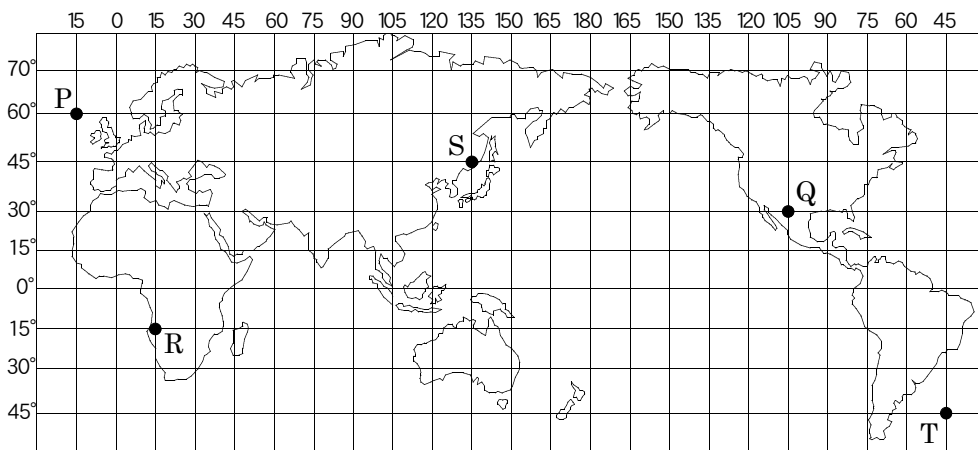
北緯	東経
南緯	西経
- L

北緯	東経
南緯	西経
- M

北緯	東経
南緯	西経
- N

北緯	東経
南緯	西経
- O

北緯	東経
南緯	西経



- P

北緯	東経
南緯	西経
- Q

北緯	東経
南緯	西経
- R

北緯	東経
南緯	西経
- S

北緯	東経
南緯	西経
- T

北緯	東経
南緯	西経