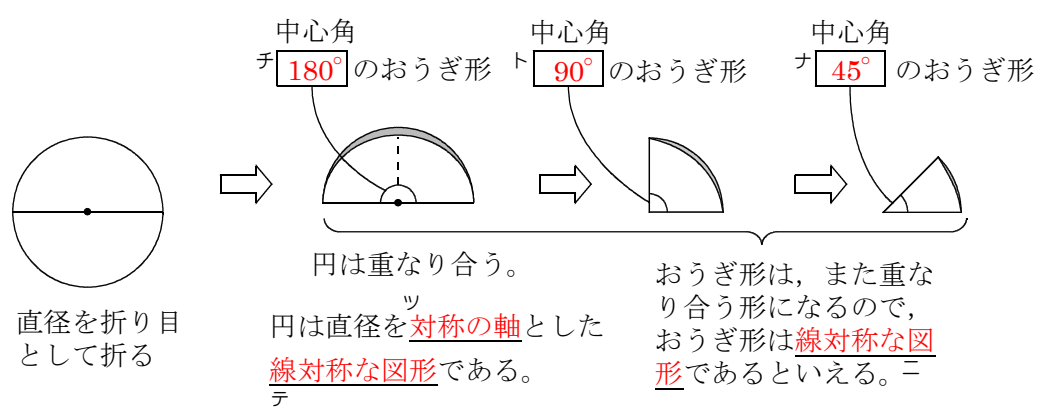
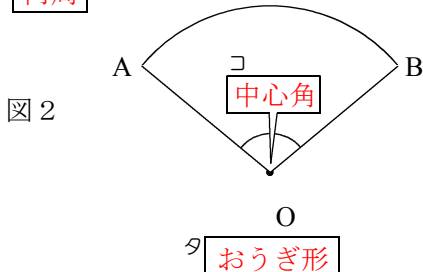
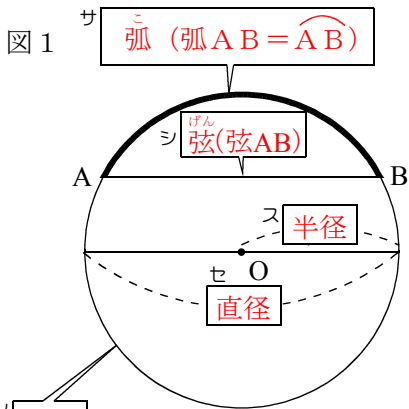


- ① 中心がOである円を **円O** という。
- ② 円のまわりを **円周** という。
- ③ 円周上の点と中心との距離を **半径** という。
- ④ 円周上の一部を **弧** という。
- ⑤ 円周上の2点を結んだ線分を **弦** という。
- ⑥ **直径** は **最大の弦** である。
- ⑦ 図2の図形を **おうぎ形** という。
- ⑧ 2つの半径のつくる角を **中心角** という。



**問3** 円Oの周上に2点A, Bをとり、弦ABを書き入れなさい。また、おうぎ形OABの対称の軸を書き入れなさい。

