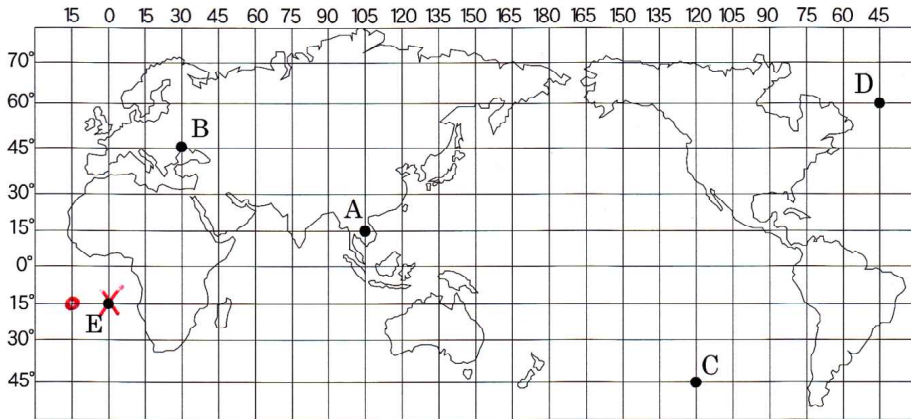
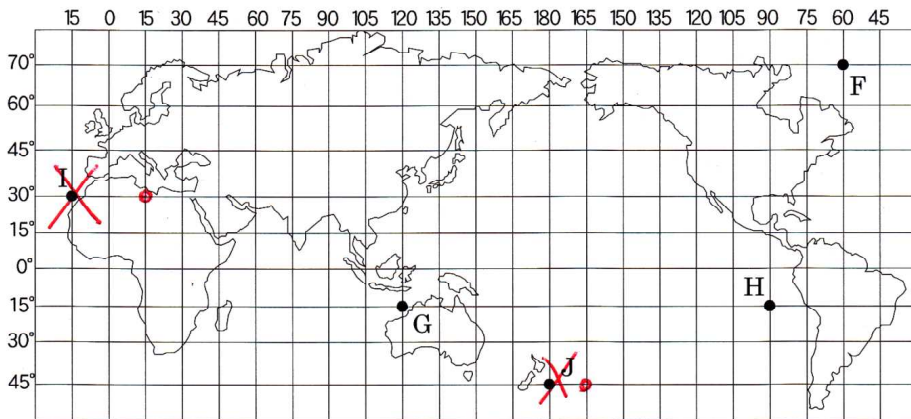


開始日 月 / 日	終了日 月 / 日	世界のさまざまな地域 地球上の位置の表し方-②	間違えた数	NAME

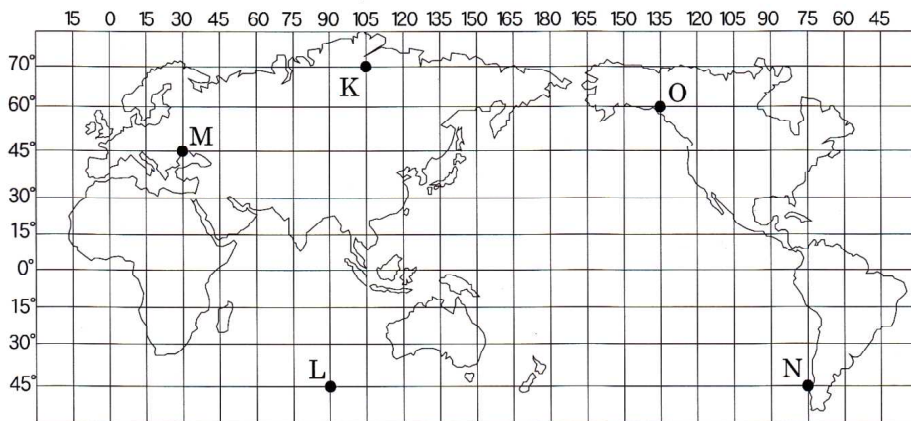
問題 下のアルファベットの位置の緯度と経度を書きなさい。



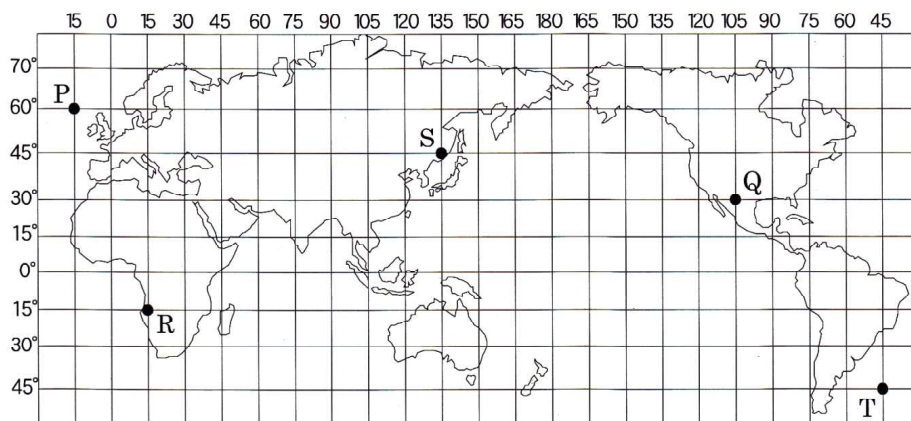
- A 北緯 15° 東経 105°
南緯 西経
- B 北緯 45° 東経 30°
南緯 西経
- C 北緯 45° 東経 120°
南緯 西経
- D 北緯 60° 東経 45°
南緯 西経
- E 北緯 15° 東経 15°
南緯 西経



- F 北緯 70° 東経 60°
南緯 西経
- G 北緯 15° 東経 120°
南緯 西経
- H 北緯 15° 東経 90°
南緯 西経
- I 北緯 30° 東経 15°
南緯 西経
- J 北緯 45° 東経 165°
南緯 西経



- K 北緯 70° 東経 105°
南緯 西経
- L 北緯 45° 東経 90°
南緯 西経
- M 北緯 45° 東経 30°
南緯 西経
- N 北緯 45° 東経 75°
南緯 西経
- O 北緯 60° 東経 135°
南緯 西経



- P 北緯 60° 東経 15°
南緯 西経
- Q 北緯 15° 東経 105°
南緯 西経
- R 北緯 15° 東経 15°
南緯 西経
- S 北緯 45° 東経 135°
南緯 西経
- T 北緯 45° 東経 45°
南緯 西経