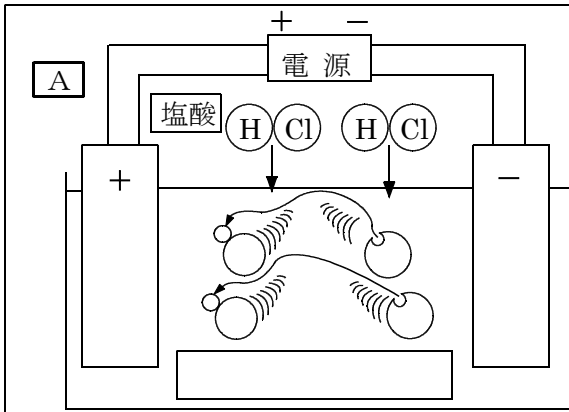
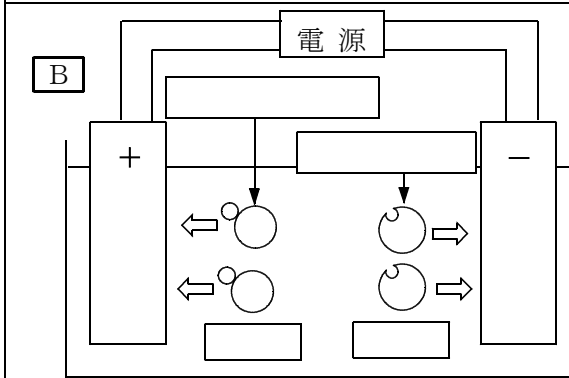


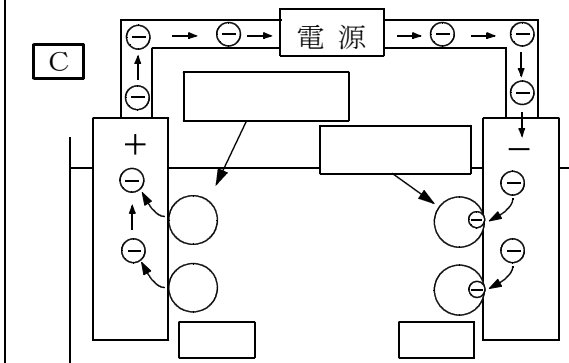
塩酸に電流を流す実験



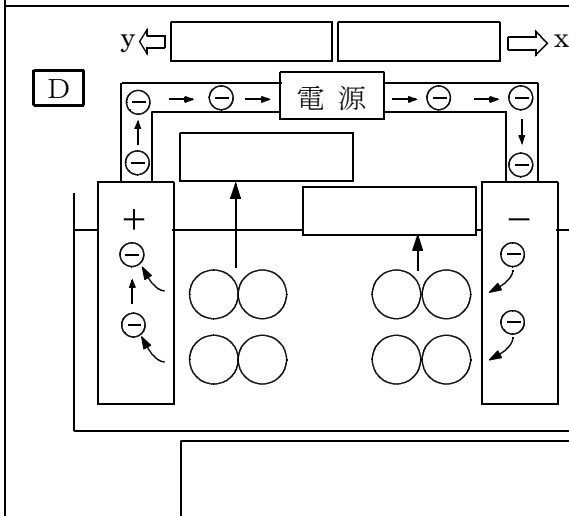
- ① 塩酸は水中で ^{ア1} する
^{ア2}
- ② 塩酸は ^イ
^{ウ1}
 に分解する
^{ウ2}



- ① ^エ につく
- ② ^オ につく



- ① 塩化物イオンは _____
 _____ になる。
- ② 水素イオンは _____
 _____ になる。



- ① +極では _____ が _____ っつ
 いて _____ になり _____ となっ
 て発生する。 _____
 _____ がする。
- ② -極では _____ が _____ っつ
 いて _____ になり _____ となっ
 て発生する。
- ③ 塩素は _____ ので発生す
 る量は水素より _____
- ④ 電流は電子と _____ の y 方向に
 流れる。