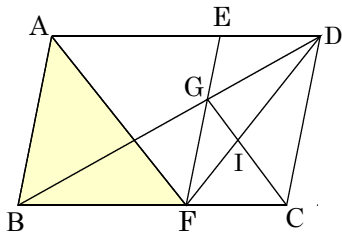
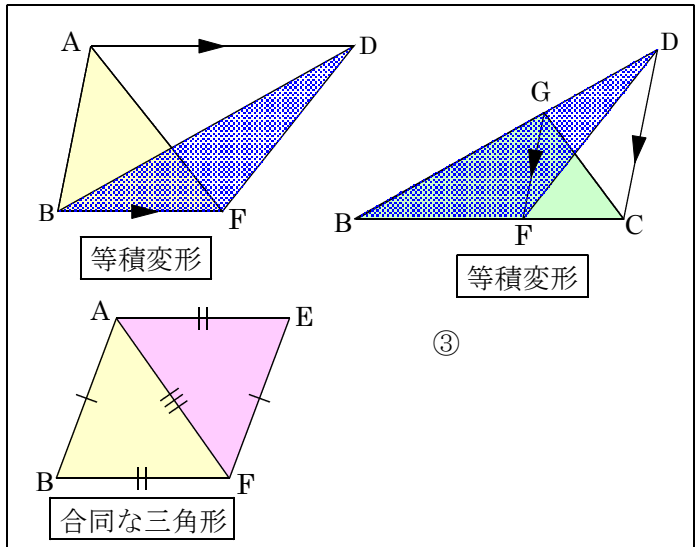


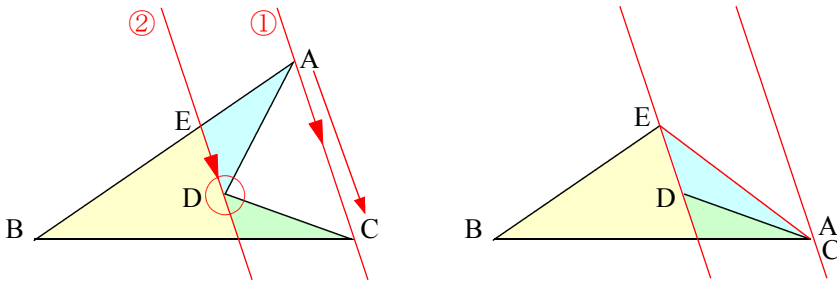
問6



- $\triangle DBF$
- $\triangle GBC$
- $\triangle AFE$



問7 下の図形と面積が等しい線分BCを1辺とする三角形を書きなさい。



問8 AB上に点Eをとり四角形DCBEと $\triangle ABC$ の面積が等しくなるようにするには点Eをどこにとればよいか作図せよ。

