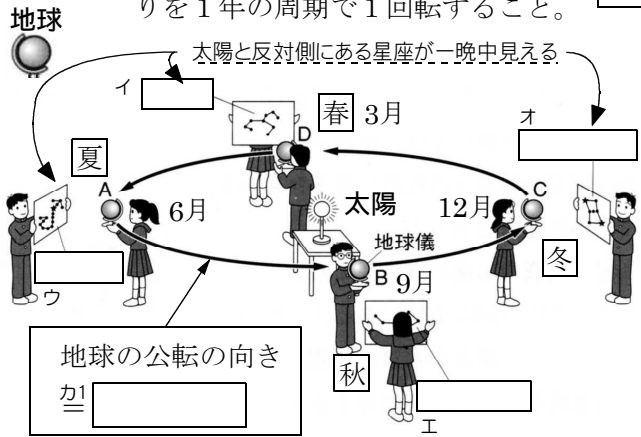


四季の星座と季節の変化

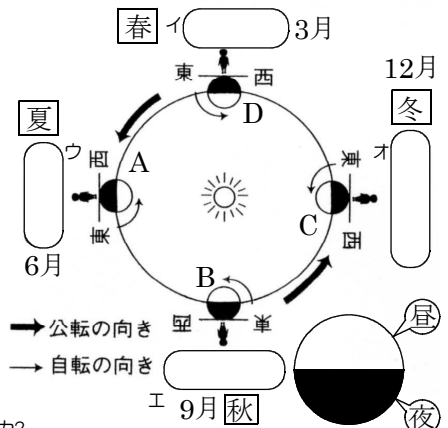
ア1 地球が太陽を中心としてそのまわりを1年の周期で1回転すること。

ア2 地球は も も も

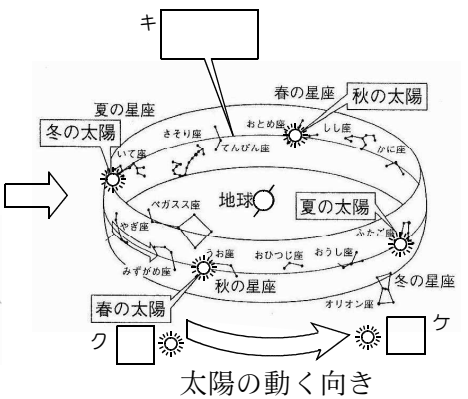
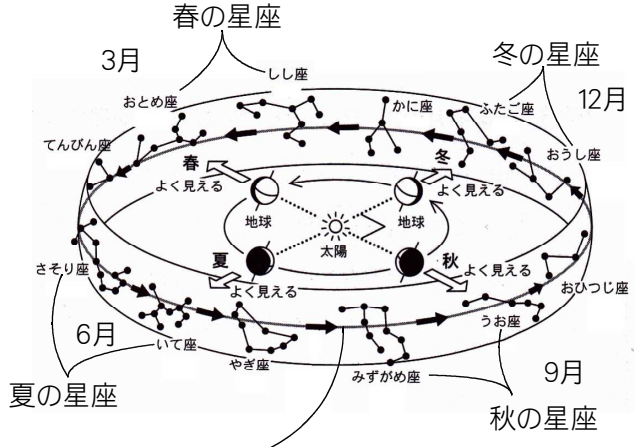


地球の公転の向き
カ1

地球の公転と季節による星座の移り変わり



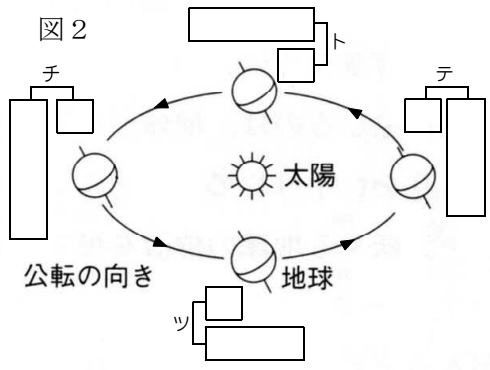
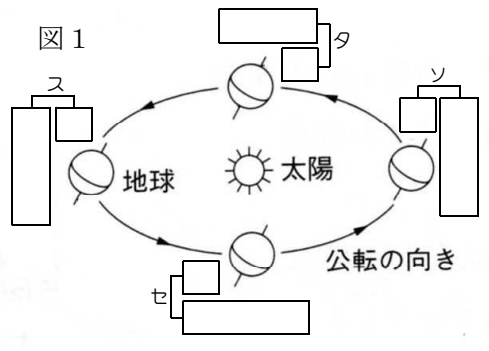
カ2 夏にオリオン座が見えないのは、
 !



太陽の動く向き

キ ... 太陽が天球上の星座の間を に動いていく道筋。太陽は ように見える。

シ ... 黄道上にある12の星座をいう



- 地軸が太陽に傾いている地球がナ その反対がニ
- 図1も図2の場合も地球はヌ にネ している。
- 図1も図2の場合も地球はノ にハ している。