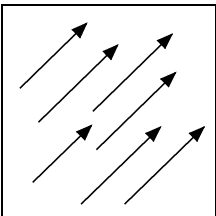
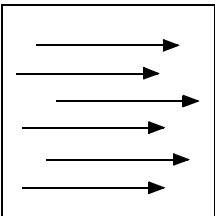
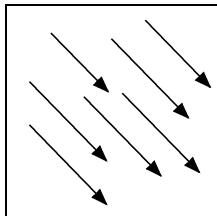
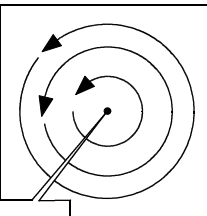


星の動き-①

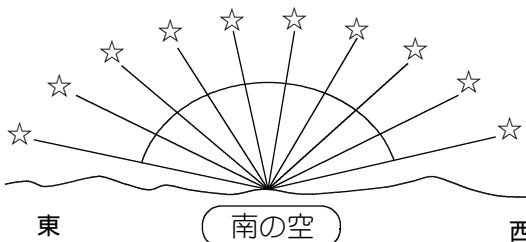
ア 北 (東の空) 南	ウ 東 (南の空) 西	オ 南 (西の空) 北	キ 西 (北の空) 東
イ 	エ 	カ 	ク1 
東	南	西	北

星の動き方

星は _____



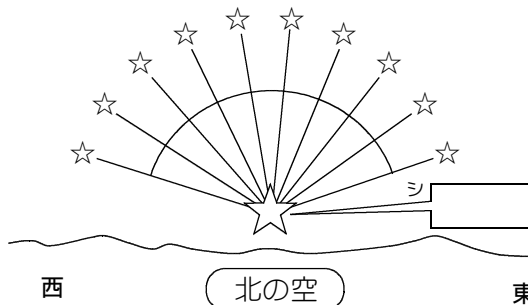
南の空は時計回りか！
なるほどなるほど…。
よく覚えておかなきゃ！



北の空は反時計回りだよ！
しっかり区別しましょう！
よく間違えま〜す！



ミスリそうでこわいよ〜。



ス 北極星は _____ の
延長線上にある
ので _____
_____ !

