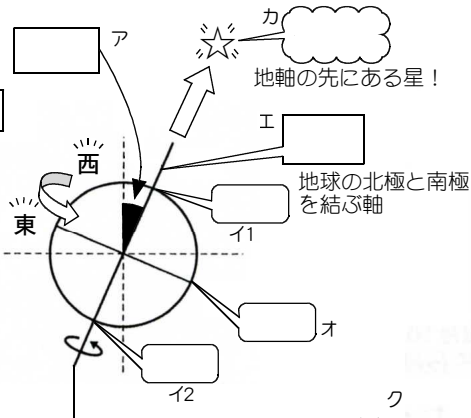


地球と天体の動き

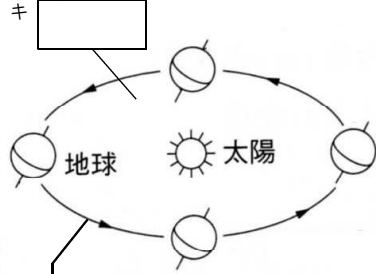
① 地軸は傾いている。

地球

ウ
天体そのものが回転していること



地球が太陽を公転している面



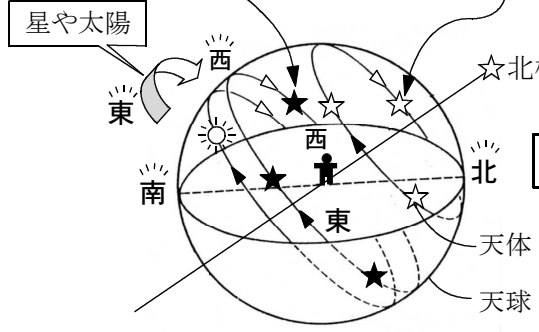
ケ 地球は1日1回 _____。

ク 地球が太陽を1回転することを _____ という。

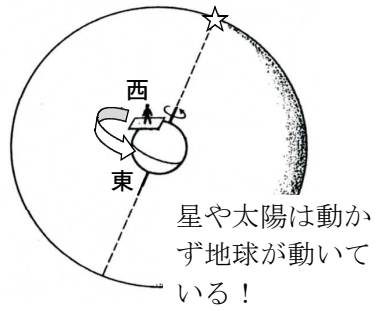
サ 地球は _____。
地球は _____。

② シ 南の空の星は _____ に動く用に見える

ス 北の空の星は _____ に動く用に見える



実際は



セ 星や太陽は, _____ へと1日1回転するように見える _____ をしている。

なぜこのように見えるのか?

ソ 地球が _____ へと1日1回 _____ ためである。

タ 星や太陽は24時間で360°回転するように見えるので _____。

なぜこのように見えるのか?

チ 地球が24時間で360°回転するので _____。

ツ 星や太陽の _____ は, _____ 現象である。