








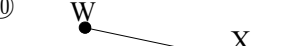


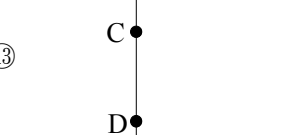
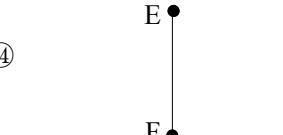


/	解説
/	NO1

NO1	
中 1	図形用語問題①

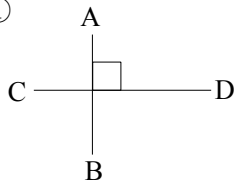
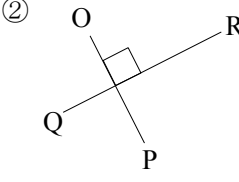
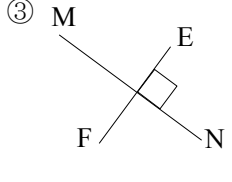
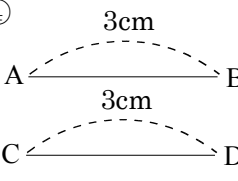
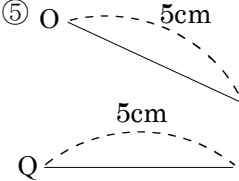
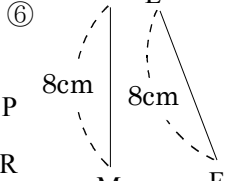
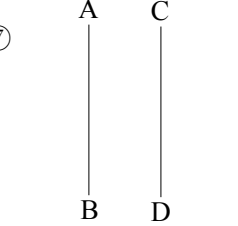
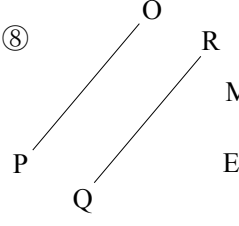
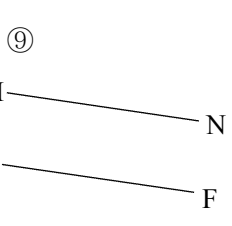
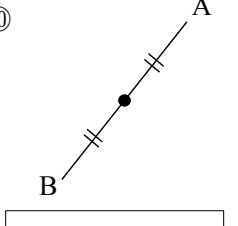
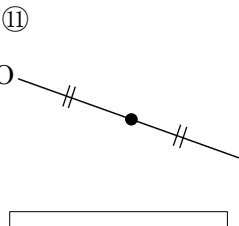
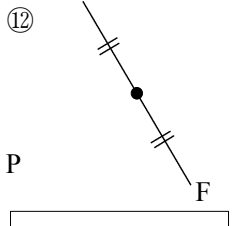
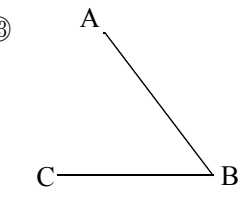
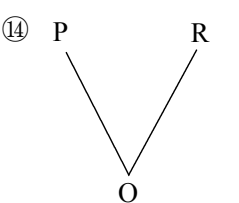
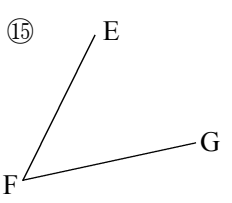
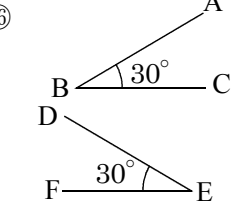
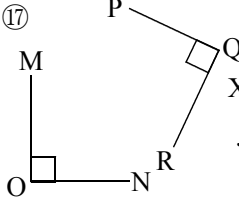
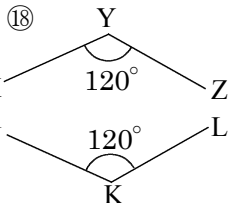
NAME	mistake

問題1 次の図を何というか。

<p>① </p> <p><input type="text"/></p>	<p>② </p> <p><input type="text"/></p>
<p>③ </p> <p><input type="text"/></p>	<p>④ </p> <p><input type="text"/></p>
<p>⑤ </p> <p><input type="text"/></p>	<p>⑥ </p> <p><input type="text"/></p>
<p>⑦ </p> <p><input type="text"/></p>	<p>⑧ </p> <p><input type="text"/></p>
<p>⑨ </p> <p><input type="text"/></p>	<p>⑩ </p> <p><input type="text"/></p>
<p>⑪ </p> <p><input type="text"/></p>	<p>⑫ </p> <p><input type="text"/></p>
<p>⑬ </p> <p><input type="text"/></p>	<p>⑭ </p> <p><input type="text"/></p>

- ⑮ ③の長さのことを何というか。
- ⑯ ⑨の長さのことを何というか。
- ⑰ ⑭の長さのことを何というか。

問題2 次の図の関係を記号を使って表しなさい。

<p>① </p> <p><input type="text"/></p>	<p>② </p> <p><input type="text"/></p>	<p>③ </p> <p><input type="text"/></p>
<p>④ </p> <p><input type="text"/></p>	<p>⑤ </p> <p><input type="text"/></p>	<p>⑥ </p> <p><input type="text"/></p>
<p>⑦ </p> <p><input type="text"/></p>	<p>⑧ </p> <p><input type="text"/></p>	<p>⑨ </p> <p><input type="text"/></p>
<p>⑩ </p> <p><input type="text"/></p>	<p>⑪ </p> <p><input type="text"/></p>	<p>⑫ </p> <p><input type="text"/></p>
<p>⑬ </p> <p><input type="text"/></p>	<p>⑭ </p> <p><input type="text"/></p>	<p>⑮ </p> <p><input type="text"/></p>
<p>⑰ </p> <p><input type="text"/></p>	<p>⑱ </p> <p><input type="text"/></p>	<p>⑲ </p> <p><input type="text"/></p>