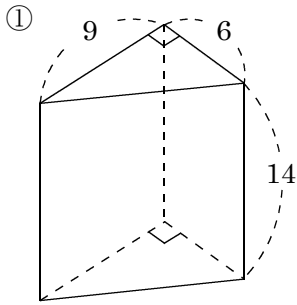


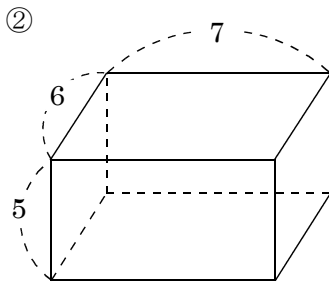
問題1 次の立体の底面積と体積を求めよ。単位はcm。

問題2 次の円柱と底面積と体積を求めよ。単位はcm。



底面積

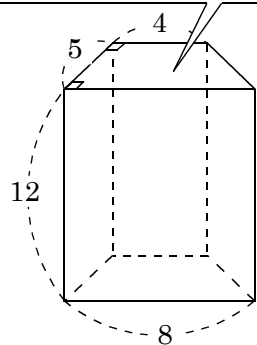
体積



底面積

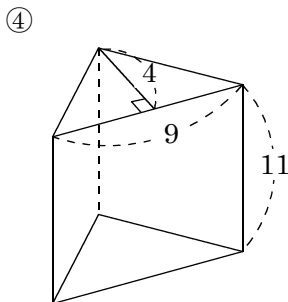
体積

③
台形の面積 = (上底 + 下底) × 高さ ÷ 2



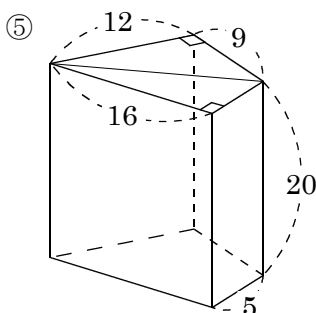
底面積

体積



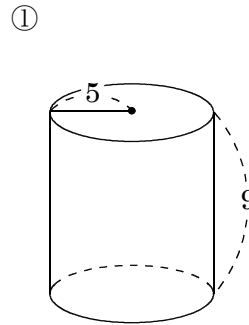
底面積

体積



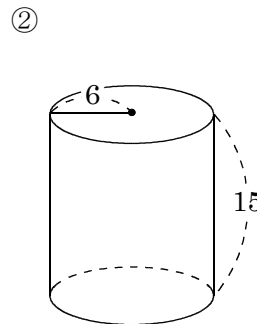
底面積

体積



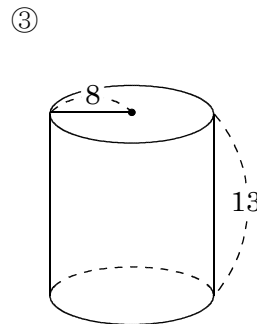
底面積

体積



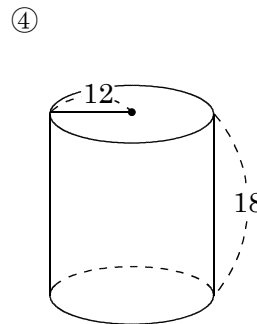
底面積

体積



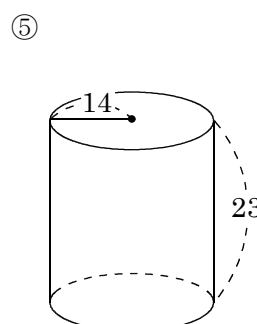
底面積

体積



底面積

体積



底面積

体積