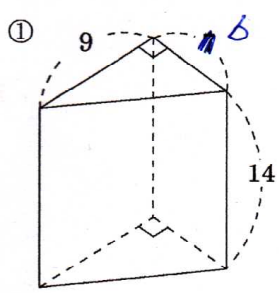


開始日  
月 / 日  
終了日  
月 / 日

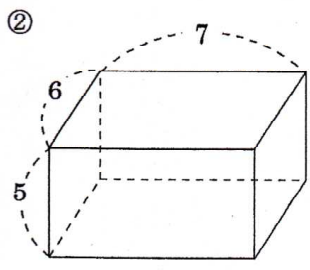
中1年数学  
立体の体積-①

間違えた数  
NAME

問題1 次の立体の底面積と体積を求めよ。単位はcm。

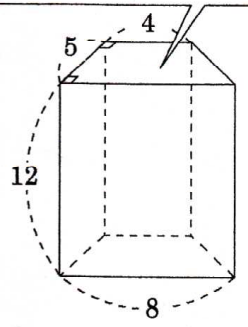


底面積  
27  
体積  
378

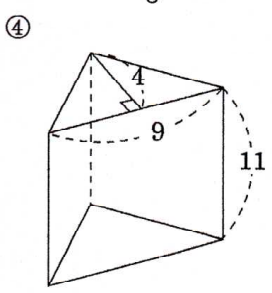


底面積  
42  
体積  
210

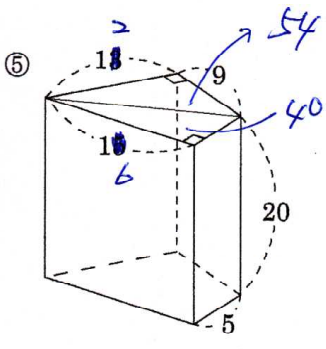
台形の面積 = (上底 + 下底) × 高さ ÷ 2



底面積  
30  
体積  
360

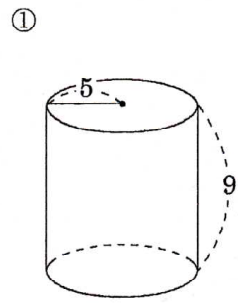


底面積  
18  
体積  
198

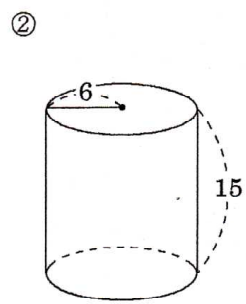


底面積  
94  
体積  
1880

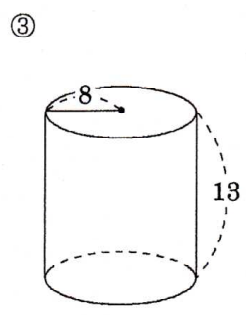
問題2 次の円柱と底面積と体積を求めよ。単位はcm。



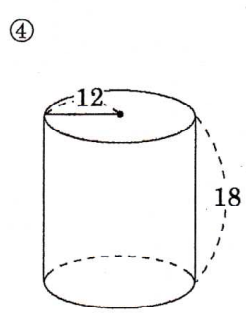
底面積  
25π  
体積  
225π



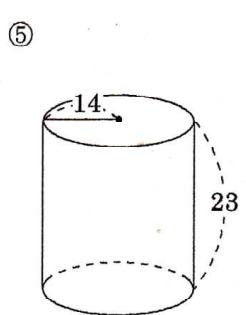
底面積  
36π  
体積  
540π



底面積  
64π  
体積  
832π



底面積  
144π  
体積  
2592π



底面積  
196π  
体積  
4508π