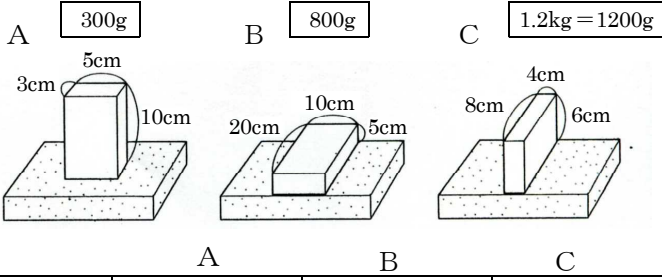


| | |
|---|------|
| / | 解説 |
| / | NO15 |

中1理科1 NO1
圧力の計算問題-①

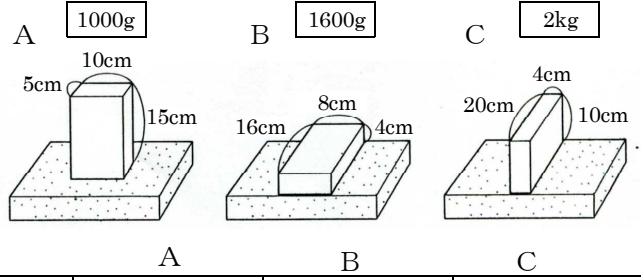
| | |
|----|---------|
| 名前 | |
| | mistake |

問題1 物体がスポンジにかかる圧力を表にしたがって求めよ。



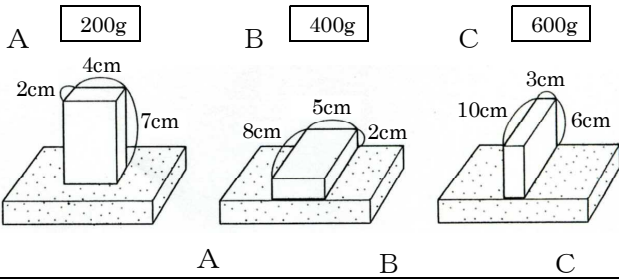
| | | | |
|-------------------------------|---|---|---|
| | A | B | C |
| 物体にはたらく重力は何Nか | | | |
| 物体がスポンジを押す力は何Nか | | | |
| スポンジにふれる面積は何cm ² か | | | |
| スポンジにふれる面積は何m ² か | | | |
| スポンジが受ける圧力は何Paか | | | |

問題3 物体がスポンジにかかる圧力を表にしたがって求めよ。



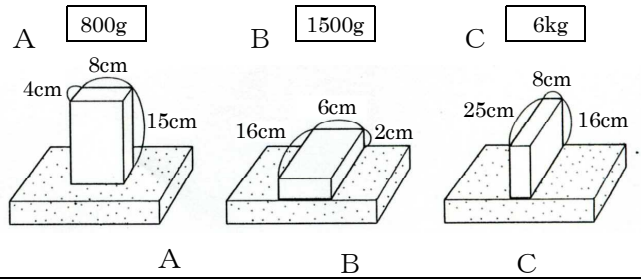
| | | | |
|-------------------------------|---|---|---|
| | A | B | C |
| 物体にはたらく重力は何Nか | | | |
| 物体がスポンジを押す力は何Nか | | | |
| スポンジにふれる面積は何cm ² か | | | |
| スポンジにふれる面積は何m ² か | | | |
| スポンジが受ける圧力は何Paか | | | |

問題2 物体がスポンジにかかる圧力を表にしたがって求めよ。



| | | | |
|-------------------------------|---|---|---|
| | A | B | C |
| 物体にはたらく重力は何Nか | | | |
| スポンジにふれる面積は何cm ² か | | | |
| スポンジにふれる面積は何m ² か | | | |
| スポンジが受ける圧力は何Paか | | | |

問題4 物体がスポンジにかかる圧力を表にしたがって求めよ。



| | | | |
|-------------------------------|---|---|---|
| | A | B | C |
| 物体にはたらく重力は何Nか | | | |
| スポンジにふれる面積は何cm ² か | | | |
| スポンジにふれる面積は何m ² か | | | |
| スポンジが受ける圧力は何Paか | | | |