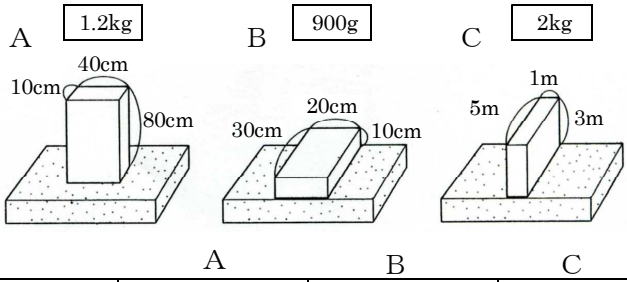
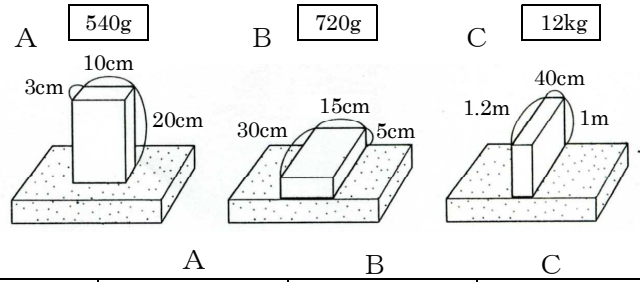


問題1 物体がスポンジにかかる圧力を表にしたがって求めよ。



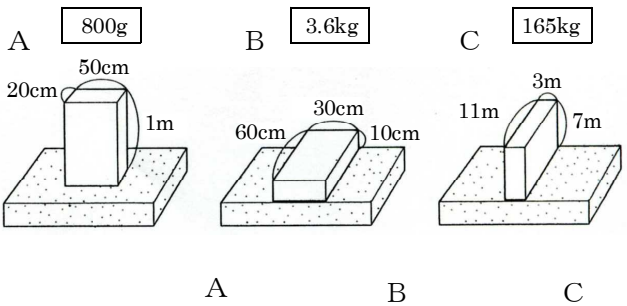
	A	B	C
物体にはたらく重力は何Nか			
物体がスポンジを押す力は何Nか			
スポンジにふれる面積は何cm <sup>2</sup> か			
スポンジにふれる面積は何m <sup>2</sup> か			
スポンジが受ける圧力は何Paか			

問題3 物体がスポンジにかかる圧力を表にしたがって求めよ。



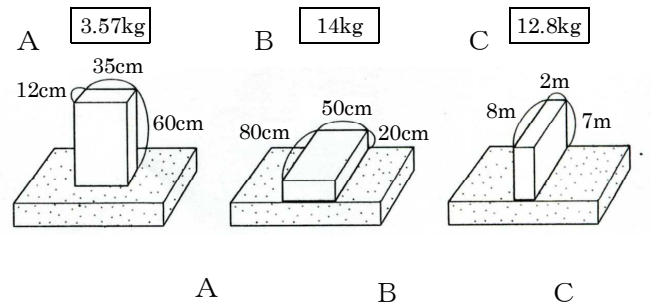
	A	B	C
物体にはたらく重力は何Nか			
物体がスポンジを押す力は何Nか			
スポンジにふれる面積は何cm <sup>2</sup> か			
スポンジにふれる面積は何m <sup>2</sup> か			
スポンジが受ける圧力は何Paか			

問題2 物体がスポンジにかかる圧力を表にしたがって求めよ。



	A	B	C
物体にはたらく重力は何Nか			
スポンジにふれる面積は何cm <sup>2</sup> か			
スポンジにふれる面積は何m <sup>2</sup> か			
スポンジが受ける圧力は何Paか			

問題4 物体がスポンジにかかる圧力を表にしたがって求めよ。



	A	B	C
物体にはたらく重力は何Nか			
スポンジにふれる面積は何cm <sup>2</sup> か			
スポンジにふれる面積は何m <sup>2</sup> か			
スポンジが受ける圧力は何Paか			