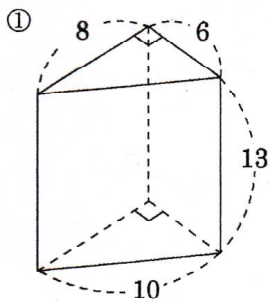


開始日 月 / 日	終了日 月 / 日
--------------	--------------

中1年数学 角柱・円柱の表面積-①

間違えた数	NAME
-------	------

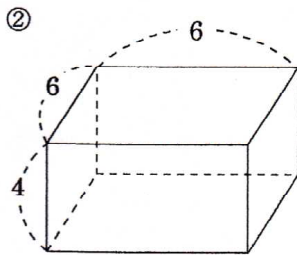
問題1 次の立体の各面積を求めよ。



側面積

底面積

表面積

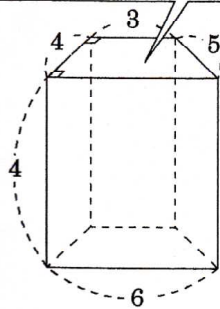


側面積

底面積

表面積

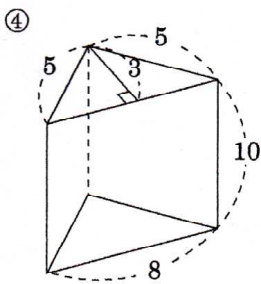
台形の面積 = (上底 + 下底) × 高さ ÷ 2



側面積

底面積

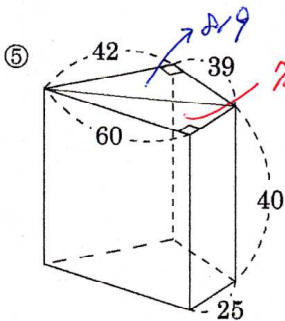
表面積



側面積

底面積

表面積

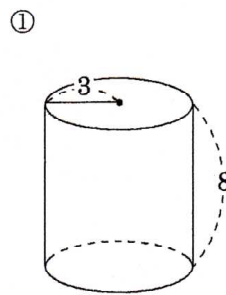


側面積

底面積

表面積

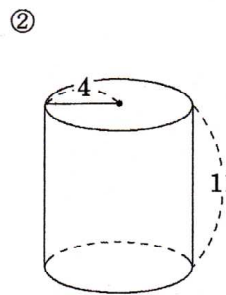
問題2 次の立体の各面積を求めよ。



側面積

底面積

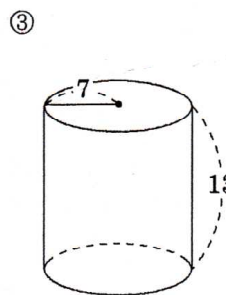
表面積



側面積

底面積

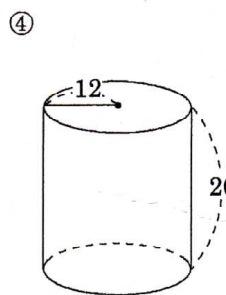
表面積



側面積

底面積

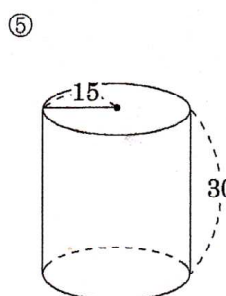
表面積



側面積

底面積

表面積



側面積

底面積

表面積