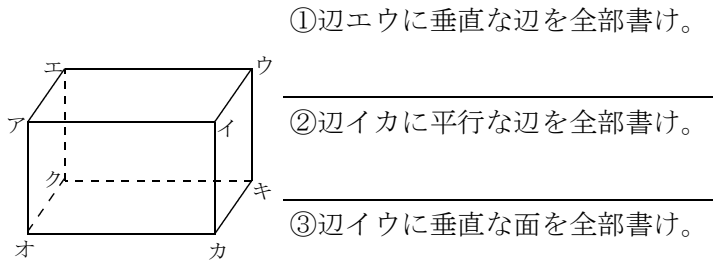


/	解説
/	NO10 A, B, C

平面空間図形 NO10
平行・垂直・ねじれの位置関係③

NAME	

問題3 下の直方体について答えなさい。



①辺エウに垂直な辺を全部書け。

②辺イカに平行な辺を全部書け。

③辺イウに垂直な面を全部書け。

④辺オカに平行な面を全部書け。

⑤面アイウエに垂直な辺を全部書け。

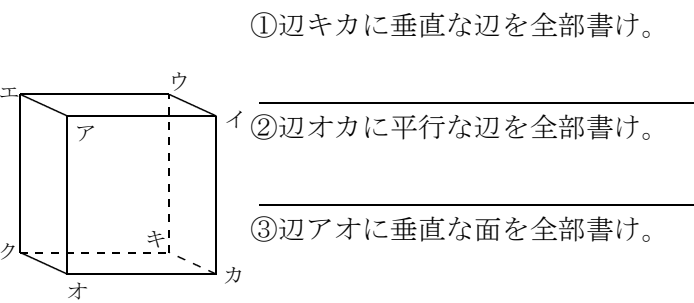
⑥面エウキクに平行な辺を全部書け。

⑦面イウキカに垂直な面を全部書け。

⑧面アイカオに平行な面を全部書け。

⑨辺アエにねじれの辺を全部書け。

問題3 下の直方体について答えなさい。



①辺キカに垂直な辺を全部書け。

②辺オカに平行な辺を全部書け。

③辺アオに垂直な面を全部書け。

④辺ウイに平行な面を全部書け。

⑤面アイカオに垂直な辺を全部書け。

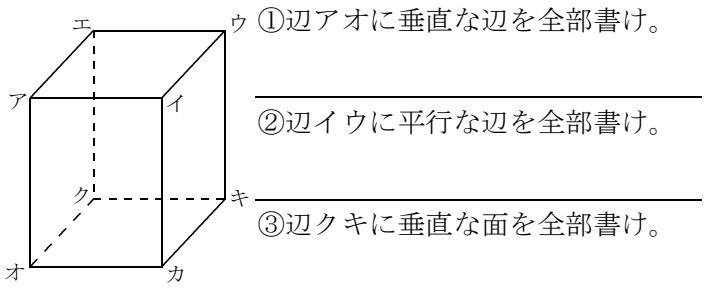
⑥面アエクオに平行な辺を全部書け。

⑦面オカキクに垂直な面を全部書け。

⑧面ウイカキ平行な面を全部書け。

⑨辺ウキにねじれの辺を全部書け。

問題3 下の直方体について答えなさい。



①辺アオに垂直な辺を全部書け。

②辺イウに平行な辺を全部書け。

③辺クキに垂直な面を全部書け。

④辺エクに平行な面を全部書け。

⑤面アエクオに垂直な辺を全部書け。

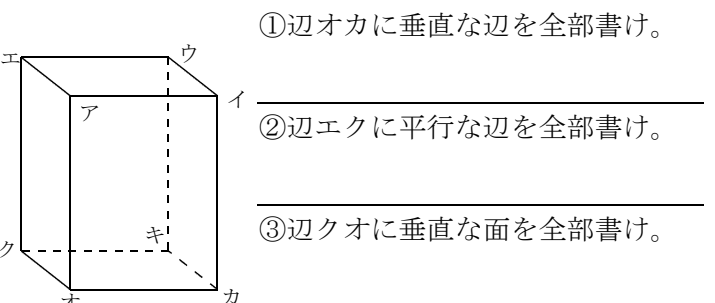
⑥面アイウエに平行な辺を全部書け。

⑦面アイカオに垂直な面を全部書け。

⑧面オカキクに平行な面を全部書け。

⑨辺オカにねじれの辺を全部書け。

問題3 下の直方体について答えなさい。



①辺オカに垂直な辺を全部書け。

②辺エクに平行な辺を全部書け。

③辺クオに垂直な面を全部書け。

④辺エウに平行な面を全部書け。

⑤面ウイカキに垂直な辺を全部書け。

⑥面アイカオに平行な辺を全部書け。

⑦面アイウエに垂直な面を全部書け。

⑧面アエクオに平行な面を全部書け。

⑨辺カキにねじれの辺を全部書け。