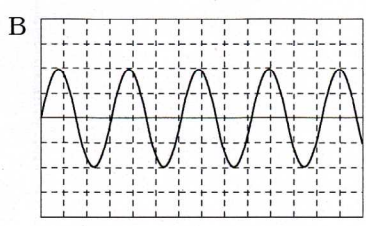
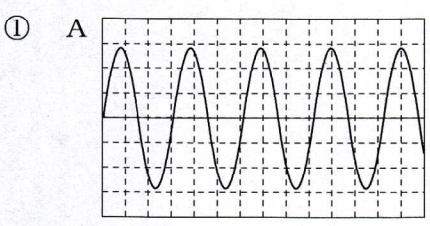
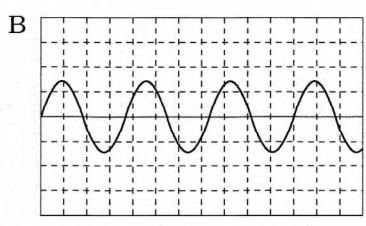
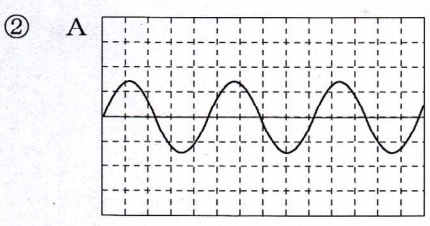


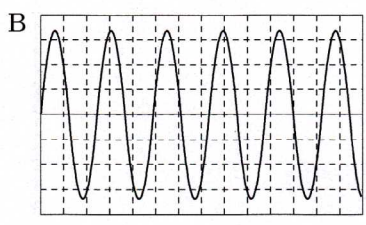
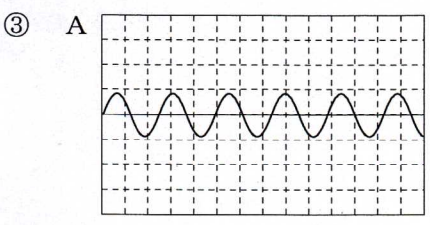
問題1 下の図は、2種類の音さA, Bを強さを変えてたたき、出た音をコンピューターを使って波形に表したものである。音の大きさと高さについて答えなさい。



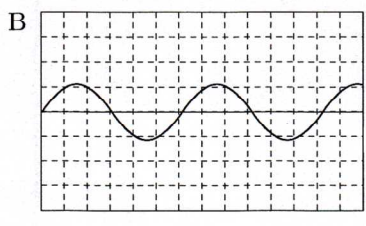
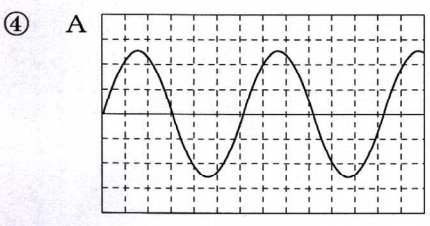
音が大きい方
A
音が高い方
同じ



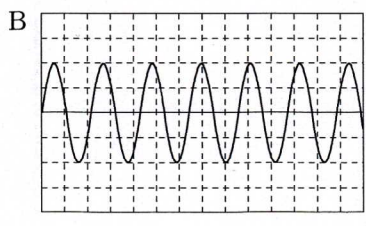
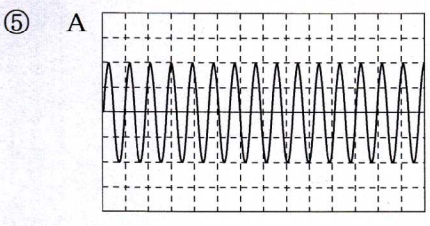
音が大きい方
同じ
音が高い方
B



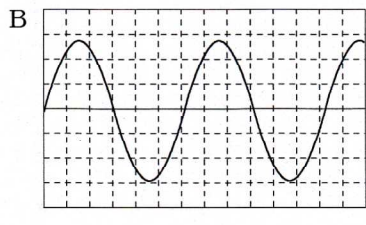
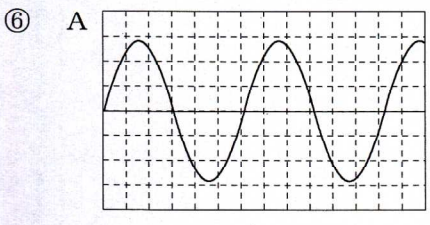
音が大きい方
B
音が高い方
同じ



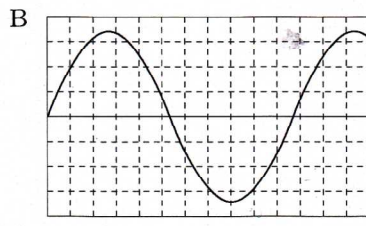
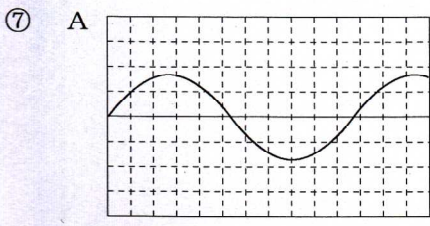
音が大きい方
A
音が高い方
同じ



音が大きい方
同じ
音が高い方
A



音が大きい方
同じ
音が高い方
同じ



音が大きい方
B
音が高い方
同じ